

# دراسات اجتماعية

## الصف السادس

### الفصل الدراسي الأول

2024 – 2023





## الدرس الأول الموقع الجغرافي للوطن العربي

- يقع الوطن العربي وسط قارات العالم القديم (آسيا – أروبا – إفريقيا).
- تمتد أراضي الوطن العربي في قارتين هما: قارة آسيا وقارة إفريقيا.



(خريطة الوطن العربي)

### حدود الوطن العربي:

- (1) الشمال: البحر المتوسط وجبال طوروس.
- (2) الجنوب: البحر العربي والمحيط الهندي والصحراء الكبرى.
- (3) الشرق: جبال كردستان وزاجروس والخليج العربي وخليج عُمان.
- (4) الغرب: المحيط الأطلنطي.

- مساحة الوطن العربي 13 مليون كم<sup>2</sup> (كيلو متر مربع).

- عدد دول الوطن العربي 22 دولة.

## توزيع دول الوطن العربي

الجناح الإفريقي (10 دول) 72%	الجناح الآسيوي (12 دولة) 28%
- مصر - ليبيا - تونس	- السعودية - اليمن - عُمان
- الجزائر - المغرب - موريتانيا	- العراق - الكويت - البحرين
- جيبوتي - الصومال - السودان	- الإمارات - قطر - فلسطين
- جزر القمر	- سوريا - لبنان - الأردن

### الأهمية الاقتصادية لموقع الوطن العربي:

(1) يطل الوطن العربي على عدة بحار عربية ذات أهمية تجارية هي: (البحر المتوسط - البحر الأحمر - الخليج العربي)

(2) يتحكم الوطن العربي في عدة ممرات بحرية هامة هي:

(1) مضيق هرمز.

(3) مضيق باب المندب.

(2) مضيق جبل طارق.

(4) قناة السويس.

\* أدى هذا إلى تحكم الوطن العربي في معظم طرق التجارة العالمية.



## الأهمية الدينية للوطن العربي:

يتمتع الوطن العربي بأهمية دينية كبيرة لهذه الأسباب:


(1) هو موطن (مكان) الديانات السماوية الثلاثة:

(اليهودية – المسيحية – الإسلامية)

(2) يضم أماكن مقدسة كثيرة مثل:



الأزهر الشريف في مصر



كنيسة القيامة في فلسطين



الكعبة في مكة المكرمة

## الأهمية الحضارية والثقافية:

– قامت على أرض الوطن العربي أقدم حضارات العالم مثل:

(1) الحضارة المصرية القديمة.

(2) حضارة بلاد العراق القديمة.

\* كان للغة العربية والدين الإسلامي دور كبير في وجود تراث ثقافي مشترك وقيم اجتماعية مماثلة بين الدول العربية.

## تذكر أن:

– **البحرين** أصغر دولة عربية من حيث المساحة.

– **الجزائر** أكبر دولة عربية من حيث المساحة.

### السؤال الأول: اكتب كلمة (صواب) أو كلمة (خطأ) أمام كل عبارة

- (1) يطل الوطن العربي على عدة بحار ذات أهمية كبيرة. (.....)
- (2) البحرين أصغر دولة عربية من حيث المساحة. (.....)
- (3) تقع ليبيا في الجناح الآسيوي للوطن العربي. (.....)
- (4) يطل الوطن العربي على المحيط الهندي من جهة الشمال. (.....)
- (5) عدد دول الوطن العربي 22 دولة. (.....)
- (6) السعودية أكبر دولة عربية من حيث المساحة. (.....)
- (7) قامت على أرض الوطن العربي أقدم حضارات العالم. (.....)
- (8) مساحة الجزائر أكبر من مساحة مصر. (.....)

### السؤال الثاني: ضع خطاً تحت الإجابة الصحيحة

- (1) مساحة الوطن العربي ..... مليون كم<sup>2</sup>.  
 (أ) 12 (ب) 13 (ج) 14 (د) 15
- (2) عدد دول الوطن العربي ..... دولة.  
 (أ) 20 (ب) 21 (ج) 22 (د) 23
- (3) يطل الوطن العربي على المحيط ..... من جهة الغرب.  
 (أ) الأطلنطي (ب) الهادي (ج) الهندي (د) المتجمد
- (4) من دول الوطن العربي في الجناح الإفريقي .....  
 (أ) الكويت (ب) لبنان (ج) اليمن (د) السودان
- (5) أكبر دولة عربية من حيث المساحة .....  
 (أ) السعودية (ب) الجزائر (ج) السودان (د) مصر
- (6) توجد جبال زاغروس في ..... الوطن العربي.  
 (أ) شمال (ب) جنوب (ج) شرق (د) غرب

### السؤال الثالث: أكمل الجمل الآتية

- (1) من الأماكن المقدسة في فلسطين .....
- (2) أصغر دولة عربية من حيث المساحة .....
- (3) من الخصائص المشتركة التي تجمع الدول العربية .....
- (4) أكبر دولة عربية من حيث المساحة .....

### السؤال الرابع: أجب

(1) اكتب دليلاً على أن الوطن العربي يتمتع بأهمية دينية كبيرة.

(2) اكتب نتيجة واحدة تترتب على تحكم الوطن العربي في عدة ممرات بحرية هامة.

(3) اكتب دليلاً واحداً على أن الوطن العربي له أهمية حضارية وثقافية.

(4) ماذا تتوقع إذا زاد تحكم الوطن العربي في الممرات البحرية بشكل أكثر؟

### السؤال الخامس: صوب ما تحته خط

(1) فلسطين أكبر دولة عربية من حيث المساحة. (.....)

(2) تقع دولة المغرب في الجناح الآسيوي للوطن العربي. (.....)

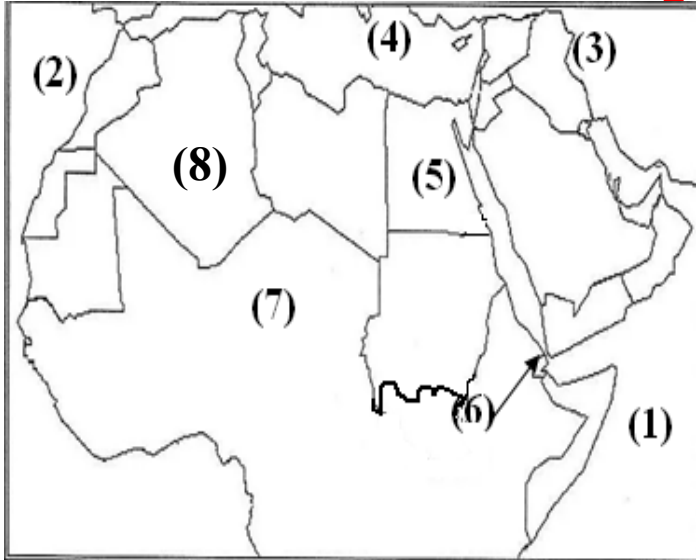
(3) البحر الأسود من البحار التي يطل عليها الوطن العربي. (.....)

(4) توجد جبال طوروس في جنوب الوطن العربي. (.....)

(5) تمتد أراضي الوطن العربي في ثلاث قارات. (.....)

### السؤال السادس: اكتب أسماء ثلاث دول عربية تقع في الجناح الإفريقي

### السؤال السابع: انظر إلى الخريطة وأكمل



يشير رقم (1) إلى المحيط .....

يشير رقم (2) إلى المحيط .....

يشير رقم (3) إلى جبال .....

يشير رقم (4) إلى البحر .....

يشير رقم (5) إلى دولة .....

يشير رقم (6) إلى مضيق .....

يشير رقم (7) إلى الصحراء .....

يشير رقم (8) إلى أكبر دولة عربية في المساحة .....

## الدرس الثاني ظهور الإسلام في وطننا العربي

### مولد الرسول ﷺ:

- وُلِدَ سيدنا محمد ﷺ في مكة المكرمة في 12 من شهر ربيع الأول عام 570 م، وكان يتيمًا فقد تُوْفِي والده قبل مولده.

- تُوْفِيَتْ والدته السيدة ( آمنة بنت وهب )، وهو في سن السادسة، وقام جده (عبدالمطلب) برعايته حتى وفاة جده في سن الثامنة، واهتم برعايته عمه (أبوطالب)

- عَمِلَ الرسول ﷺ في رعي الأغنام؛ ليساعد عمه ولا يكون عبئًا عليه، ثم عمل بالتجارة واشتهر بالصدق والأمانة، وأُقْبِبَ (سُمِّي) بالصادق الأمين، وتزوج السيدة (خديجة بنت خويلد).



### ظهور الإسلام

- نزل جبريل (عليه السلام) برسالة الإسلام على محمد ﷺ وهو في سن الأربعين، في غار حراء بمكة، كان الرسول يذهب هناك في شهر رمضان للتأمل في الكون.

- بدأ الرسول ﷺ في الدعوة إلى الدين الإسلامي وقيمه وتعاليمه السمحة، وتغيرت حياة سكان شبه الجزيرة العربية إلى الأفضل.

### حياة العرب قبل ظهور الإسلام

- كان النظام القبلي هو السائد (المنتشر) في شبه الجزيرة العربية، حيث عاش العرب في قبائل لكل قبيلة شيخ يحكمها، وكانت قبيلة (قريش) التي تعيش في مكة من أشهر القبائل.



- كانت حرفة الرعي هي أشهر الحرف بالإضافة إلى بعض الحرف البسيطة مثل:  
(صناعة السيوف والرماح والأواني الفخارية)

- اشتغل العرب بالتجارة، ومن أشهر الرحلات التجارية:

- رحلة الشتاء إلى اليمن.

- رحلة الصيف إلى الشام.

- عُرف العرب بالبلاغة وحب الشعر واتصف العرب ببعض الصفات:

\* **الصفات الحسنة** مثل: الشجاعة والكرم والوفاء بالعهد.

\* **الصفات السيئة** مثل: وأد البنات (دفن البنات أحياء)، وشرب الخمر والأخذ بالثأر.

وقد اختفت هذه الصفات السيئة مع نزول الإسلام.



## مراحل الدعوة إلى الإسلام

- مرت مراحل الدعوة إلى الإسلام بأربع (4) مراحل،  
مرحلتين في مكة ومرحلتين بعد الهجرة إلى المدينة.

### (1) المرحلة الأولى (الدعوة السرية)

- بدأ الرسول ﷺ بالدعوة السرية؛ لتجنب أذى قريش واستمرت ثلاث (3) سنوات،

بدأ الرسول ﷺ بدعوة أصحابه والمقربين منه مثل:

- زوجته (خديجة بنت خويلد).

- صديقه (أبو بكر الصديق).

- ابن عمه (علي بن أبي طالب).

## (2) المرحلة الثانية (الدعوة الجهرية)

- أمر الله الرسول ﷺ بدعوة قريش إلى عبادة الله الواحد وترك عبادة الأصنام.  
\* حاربت قريش دعوة الرسول ﷺ؛ خوفاً على مكانتها بين القبائل، فقامت بإيذاء الرسول والمسلمين وعرضت عليه المال والسلطة لتترك هذا الدين، وقامت بمقاطعة وحصار المسلمين.

### وثيقة المقاطعة:

- قرر كفار قريش حصار المسلمين ومنع البيع لهم، كتب كفار قريش الصحيفة وعلقوها في الكعبة؛ حتى يترك المسلمون الدين الجديد.

- واجه الرسول ﷺ إيذاء قريش بالحكمة، وحث (شجع) المسلمين على الصبر والتحمل، ثم أمر الرسول ﷺ أصحابه بالهجرة الأولى إلى الحبشة؛ لأن فيها ملكاً عادلاً يُسمى النجاشي لا يُظلم عنده أحد.

- بدأ الرسول ﷺ في نشر الإسلام بين القبائل العربية التي وفد (تأتي) إلى مكة في موسم الحج، واستجاب له وفود من أهل يثرب (المدينة المنورة).

- مع زيادة أذى قريش للمسلمين فكر الرسول ﷺ في الهجرة إلى المدينة لتبدأ مرحلة جديدة من مراحل الدعوة الإسلامية.

### الهجرة إلى الحبشة:

- هي أول هجرة للمسلمين إلى الحبشة بسبب إيذاء قريش للمسلمين، ورفض النجاشي ملك الحبشة تسليم المسلمين إلى كفار قريش.

## السؤال الأول: اكتب كلمة (صواب) أو كلمة (خطأ) أمام كل عبارة

- (1) نزل جبريل برسالة الإسلام على الرسول وهو في سن الأربعين. (.....)
- (2) وُلِدَ الرسول سيدنا محمد ﷺ في المدينة المنورة. (.....)
- (3) كانت الهجرة الأولى للمسلمين إلى المدينة المنورة. (.....)
- (4) عَمِلَ الرسول ﷺ في رعي الأغنام؛ ليساعد عمه. (.....)
- (5) حاربت قريش دعوة الرسول ﷺ؛ خوفاً على مكانتها بين القبائل. (.....)
- (6) كانت حرفة الزراعة هي أشهر الحرف المنتشرة بين القبائل العربية. (.....)
- (7) بدأ الرسول ﷺ الدعوة إلى الإسلام بالدعوة الجهرية. (.....)

## السؤال الثاني: ضع خطاً تحت الإجابة الصحيحة

- (1) وُلِدَ سيدنا محمد ﷺ في .....  
(أ) المدينة المنورة (ب) مكة المكرمة (ج) مصر (د) العراق
- (2) تُوْفِيَت السيدة آمنة والدة الرسول ﷺ وهو في سن .....  
(أ) الثالثة (ب) الرابعة (ج) الخامسة (د) السادسة
- (3) نزل جبريل (عليه السلام) على محمد ﷺ وهو في غار .....  
(أ) حراء (ب) بدر (ج) أحد (د) ثور
- (4) استمرت الدعوة السرية للإسلام مدة .....  
(أ) سنتين (ب) ثلاث سنوات (ج) أربع سنوات (د) خمس سنوات
- (5) كانت الهجرة الأولى للمسلمين إلى بلاد .....  
(أ) المدينة (ب) الحبشة (ج) مكة (د) مصر
- (6) نزلت رسالة الإسلام على محمد ﷺ وهو في سن .....  
(أ) العشرين (ب) الثلاثين (ج) الأربعين (د) الخمسين

## السؤال الثالث: أكمل الجمل بكلمة من بنك الكلمات:

( الكرم - الأصنام - الحبشة - ثلاث )

- (1) أمر الرسول ﷺ أصحابه بالهجرة الأولى إلى .....؛ لأن ملكها عادل.
- (2) استمرت دعوة الرسول ﷺ السرية مدة ..... سنوات.
- (3) من صفات العرب الحسنة قبل ظهور الإسلام .....
- (4) أمر الرسول ﷺ قريش بعبادة الله الواحد وترك عبادة .....

### السؤال الرابع: أجب

(1) اذكر سببا واحدا: أمر الرسول ﷺ أصحابه بالهجرة الأولى إلى الحبشة.

(2) اكتب نتيجة واحدة: دخول العرب في الإسلام.

(3) اكتب اثنين من: الصفات السيئة للعرب قبل الإسلام.

(4) اكتب نتيجة واحدة: زيادة إيذاء قريش للمسلمين.

(5) اكتب سبباً واحداً: عمَلِ الرسول ﷺ في رعي الأغنام.

### السؤال الخامس: صوب ما تحته خط

(1) كانت الهجرة الأولى للمسلمين إلى بلاد العراق. (.....)

(2) نزل جبريل (عليه السلام) على الرسول ﷺ في غار ثور. (.....)

(3) وُلد الرسول ﷺ في شهر ربيع الأول في المدينة المنورة. (.....)

### السؤال السادس: حدد غير المناسبة للمجموعة

(الشجاعة – الكرم – شرب الخمر – الوفاء بالعهد)

### السؤال السابع: اكتب ما تدل عليه العبارة

(1) الغار كان الرسول يتعبد فيه عندما نزل عليه جبريل. (.....)

(2) أشهر الحرف التي عمل فيها العرب قبل الإسلام. (.....)

### السؤال الثامن: صنف صفات العرب قبل الإسلام في الجدول التالي

(1) وأد البنات. (2) الوفاء بالعهد.

(3) الشجاعة. (4) شرب الخمر.


الصفات السيئة	الصفات الحسنة
(1) .....	(1) .....
(2) .....	(2) .....

## الدرس الثالث هجرة الرسول ﷺ وتأسيس الدولة الإسلامية

- دعا الرسول ﷺ وفودًا (جماعات) من أهل يثرب في موسم الحج إلى الإسلام، آمنوا به وببايعوه (عاهدوه) على حمايته ونصرته فلما عادوا إلى يثرب دعوا الناس إلى الإسلام، وعندما اشتد إيذاء قريش للرسول ﷺ أمر أصحابه بالهجرة إلى يثرب.

- أدركت قريش خطورة المسلمين، فحاولت منع الرسول ﷺ من الهجرة، اجتمع زعماء قريش في دار (الندوة) وقرروا قتل الرسول ﷺ ولكنهم فشلوا.

- خطط الرسول ﷺ للهجرة فقرر الهجرة في سرية تامة ليلاً مع صديقه (أبو بكر الصديق)، وسلكا طريقًا غير معروف حتى وصلا إلى يثرب واستقبلها أهلها بالترحاب وأطلق الرسول ﷺ على يثرب اسم (المدينة المنورة).



### تذكر أن:

- كانت الهجرة إلى المدينة نقطة تحول في التاريخ الإسلامي؛ لأنها أسست لقيام الدولة الإسلامية.

### بناء الدولة الإسلامية:

- بدأ الرسول ﷺ في وضع أسس لبناء دولة موحدة قائمة على النظام والعدل.

### (1) بناء المسجد

ليكون مركزًا للعبادة وتعليم أصول الدين، ومقرًا للحكم وإدارة شؤون الدولة.

### (2) المؤاخاة بين الأنصار والمهاجرين

- آخى الرسول ﷺ بين المهاجرين (أهل مكة) والأنصار (أهل المدينة الذين نصرروا الرسول)؛ لإقامة مجتمع متماسك تسوده المحبة والتعاون، آخى الرسول بين (عبدالرحمن بن عوف) و(سعد بن الربيع) وعرض عليه نصف ماله فرفض.

### (3) صحيفة المدينة

- وثيقة تنظم العلاقة بين المسلمين وغيرهم من يهود المدينة، وتحدد الحقوق والواجبات، وتُعد هذه الصحيفة أول وثيقة لحقوق الإنسان تؤكد على حرية العقيدة.

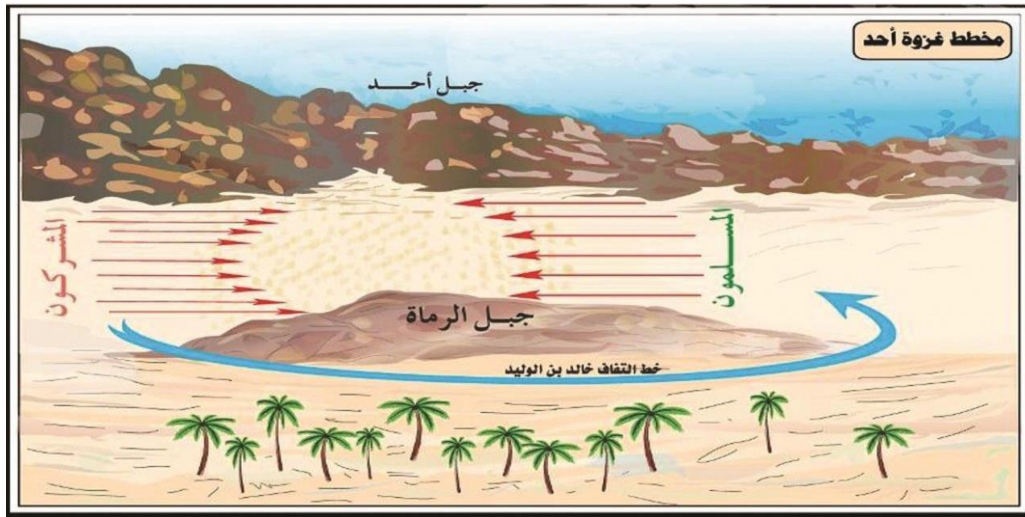
\* قام الرسول بعدة غزوات (معارك) لحماية الدين والدفاع عن المسلمين...

#### (1) غزوة بدر سنة 2 هـ:

- انتصر المسلمون على قريش رغم قلة عدد المسلمين.

#### (2) غزوة أحد سنة 3 هـ:

- انتصر المسلمون في البداية، ولكن نتيجة مخالفة الرماة لأوامر الرسول ﷺ وترك مواقعهم فوق الجبل ونزولهم لجمع الغنائم تحول نصر المسلمين في غزوة أحد إلى هزيمة.



#### (3) غزوة الخندق سنة 5 هـ:

- انتصر المسلمون على قريش وحلفائها (مساعدتها) دون قتال، حيث أشار سلمان الفارسي على النبي ﷺ بحفر خندق حول المدينة؛ لمنع قريش من الوصول إلى المدينة.

وكان هذا النصر سبباً في دخول كثير من العرب في الإسلام.

#### (4) صلح الحديبية سنة 6 هـ

- خرج الرسول ﷺ مع أصحابه إلى مكة لأداء العمرة ومنعتهم قريش، وانتهت المفاوضات بعقد صلح الحديبية والاتفاق على هدنة بين قريش والمسلمين، شروطها (1) إيقاف الحرب بين الطرفين مدة عشر (10) سنوات. (2) تأجيل العمرة للعام القادم.
- اعترض بعض الصحابة على الهدنة، لكن الرسول ﷺ رأى أن هذه الهدنة نصرًا كبيرًا، وبدأ الرسول ﷺ في نشر الإسلام ودعوة الملوك والحكام إلى الإسلام.

#### (5) فتح مكة سنة 8 هـ

- نقضت (خالفت) قريش الهدنة واعتدت على قبيلة (خزاعة) حليفة الرسول ﷺ، فخرج بجيش كبير لفتح مكة، وفتحها بدون قتال وحطم الأصنام وطاف بالكعبة، وعفا الرسول ﷺ عن أهل مكة وقال لهم: (اذهبوا فأنتم الطلقاء) أي الأحرار، ونتيجة لعفو وتسامح الرسول ﷺ بدأ الناس في دخول الإسلام أفواجًا (جماعات).

#### (6) فريضة الحج سنة 10 هـ

- خرج الرسول ﷺ لأداء فريضة الحج مع أصحابه، وبعد عودته إلى المدينة مرض مرضًا شديدًا وتوفي في العام التالي (11 هـ) بعد أن أتم رسالته.

#### تذكر أن

- كان الرسول ﷺ يأمر أصحابه بحماية الممتلكات أثناء الحرب فيقول لهم: (لا تقطعوا شجرة، ولا تعقرن نخلة ولا تهدموا بيتًا، ولا تقتلوا امرأة ولا صبيًا ولا وليدًا..)

## السؤال الأول: اكتب كلمة (صواب) أو كلمة (خطأ) أمام كل عبارة

- (1) حاولت قريش منع المسلمين من الهجرة إلى المدينة. (.....)
- (2) انتصر المسلمون على كفار قريش في غزوة أحد. (.....)
- (3) عاقب الرسول ﷺ أهل مكة بعد فتحها سنة 8 هـ. (.....)
- (4) اعترض بعض الصحابة على الهدنة في صلح الحديبية. (.....)
- (5) كانت الهجرة إلى المدينة نقطة تحول في التاريخ الإسلامي. (.....)
- (6) أول عمل قام به الرسول ﷺ بعد الهجرة هو بناء المسجد. (.....)
- (7) بعد صلح الحديبية أكمل الرسول ﷺ طريقه ليؤدي العمرة. (.....)

## السؤال الثاني: ضع خطاً تحت الإجابة الصحيحة

- (1) اجتمع زعماء قريش في دار..... وقرروا قتل الرسول ﷺ لكنهم فشلوا.  
(أ) الحكمة (ب) العلوم (ج) الندوة (د) الشعب
- (2) حدثت غزوة (بدر) في العام ..... من الهجرة.  
(أ) الأول (ب) الثاني (ج) الثالث (د) الرابع
- (3) انهزم المسلمون في غزوة..... بسبب مخالفة الرماة لأوامر الرسول ﷺ.  
(أ) بدر (ب) أحد (ج) الخندق (د) فتح مكة
- (4) كانت مدة الهدنة في صلح الحديبية ..... سنوات.  
(أ) سبع (ب) ثمان (ج) تسع (د) عشر
- (5) توفي الرسول ﷺ في سنة ..... من الهجرة.  
(أ) 10 (ب) 11 (ج) 12 (د) 13
- (6) كان ..... هو صديق الرسول ﷺ في الهجرة إلى المدينة.  
(أ) أبوبكر الصديق (ب) علي بن أبي طالب (ج) عمر بن الخطاب

## السؤال الثالث: أكمل الجمل الآتية بكلمة من بنك الكلمات

( خندق - سرية - الأنصار - الرماة )

- (1) خطط الرسول ﷺ للهجرة فقرر الهجرة في ..... تامة ليلاً.
- (2) آخى الرسول ﷺ بين المهاجرين و.....؛ لإقامة مجتمع متماسك.
- (3) في غزوة أحد تحول النصر إلى هزيمة بسبب مخالفة..... لأوامر الرسول.
- (4) أشار سلمان الفارسي على النبي ﷺ بحفر..... حول المدينة لحمايتها.



### السؤال الرابع: أجب

- (1) اذكر سببا واحدا: كانت الهجرة إلى المدينة نقطة تحول في التاريخ الإسلامي.  
.....
- (2) اكتب سبباً واحداً: آخى الرسول ﷺ بين المهاجرين والأنصار.  
.....
- (3) اكتب دليلاً على: كان صلح الحديبية نصراً كبيراً للإسلام.  
.....
- (4) اكتب نتيجة واحدة: مخالفة الرماة لأوامر الرسول ﷺ في غزوة أحد.  
.....
- (5) اكتب سبباً واحداً: بناء الرسول ﷺ للمسجد في المدينة المنورة.  
.....
- (6) اكتب سبباً واحداً: قام الرسول بعدة غزوات (معارك).  
.....

### السؤال الخامس: صوب ما تحته خط

- (1) أشار عمر بن الخطاب على الرسول بحفر خندق حول المدينة. (.....)
- (2) فتح المسلمون مكة سنة 10 هـ وقاموا تحطيم الأصنام. (.....)
- (3) نقضت قريش الهدنة واعتدت على قبيلة قريش حليفة الرسول. (.....)

### السؤال السادس: ما المقصود بـ:

- (1) المهاجرون: .....

### السؤال السابع: اكتب ما تدل عليه العبارة

- (1) المسلمون الذين هاجروا من مكة إلى المدينة. (.....)
- (2) أهل المدينة الذين نصرُوا الرسول ﷺ. (.....)
- (3) صلح عُقد بين المسلمين وكفار قريش. (.....)

### السؤال الثامن: رتب من الأقدم إلى الأحدث:

(غزوة الخندق – غزوة بدر – فتح مكة – غزوة أحد)

الترتيب: .....

## الدرس الرابع لمحات من حياة الخلفاء الراشدين

- بعد أن انتقل الرسول ﷺ إلى جوار ربه، اتفق المسلمون على تعيين خليفة له، ووقع الاختيار على (أبي بكر الصديق) بسبب:
- أول من آمن بالرسول ﷺ وشارك في جميع الغزوات.
- جعله الرسول ﷺ إماماً للمسلمين في الصلاة أثناء مرضه.

### أولاً: أبوبكر الصديق

- الخليفة الأول للمسلمين، استمرت الخلافة لمدة سنتين ونصف من (11 - 13هـ) وقام بالعديد من الأعمال منها:

#### (1) إرسال جيش أسامة بن زيد إلى الشام

- الذي جهزه الرسول قبل وفاته؛ لمحاربة الروم وتأمين حدود الدولة الإسلامية، وأمر أبوبكر (أسامة بن زيد) كما فعل الرسول ﷺ بحماية الممتلكات والمدنيين.

#### (2) محاربة المرتدين

- ارتدت (رجعت) بعض القبائل عن الإسلام ورفضت دفع الزكاة، وادعى البعض النبوة مثل (مسيلمة الكذاب)، فقال أبوبكر: (والله لو منعوني عقلاً كانوا يعطونهم لرسول الله ﷺ لقاتلتهم عليه)، حاربهم ونجح في إعادتهم إلى الإسلام.

#### (3) جمع القرآن الكريم

- استشهد عدد كبير من حفظة القرآن الكريم في حرب المرتدين، أمر أبوبكر الصديق من (زيد بن ثابت) جمع القرآن الكريم.

#### (4) إرسال الجيوش

- إرسال الجيوش خارج شبه الجزيرة العربية وتأمين حدود الدلة الإسلامية.

## ثانياً: عمر بن الخطاب

- قبل وفاة أبي بكر الصديق أوصى بالخلافة لعمر بن الخطاب بعد أن استشار الصحابة وقام بالكثير من الأعمال خلال حكمه من (13 - 23 هـ) منها:
  - (1) وضع التقويم (التاريخ) الهجري الذي يبدأ من هجرة الرسول ﷺ من مكة إلى المدينة.
  - (2) استكمل الفتوحات، ففتح بلاد العراق وفارس ومصر والشام.
  - (3) أنشأ عددًا من الدواوين (الوزارات) مثل:  
( ديون الجند - ديوان بيت المال )
- استشهد سنة 23 هجرية، وقد كان معروفًا بالرحمة رغم قوة شخصيته وشدته.

## ثالثاً: عثمان بن عفان

- الخليفة الثالث.. تولى الخلافة (الحكم) من (23 - 35 هـ) ومن أهم أعماله:
  - (1) جمع القرآن في مصحف واحد، ووزعه على كل البلاد حتى تتوحد قراءة القرآن.
  - (2) قام بإنشاء أول أسطول بحري (سفن حربية) في الإسلام؛ لتأمين حدود مصر والشام من هجمات الروم.
  - (3) قام بالعديد من الفتوحات الإسلامية.
  - (4) أنفق الكثير من ماله لنصرة الإسلام مثل:
    - تجهيز جيش العسرة.
    - توسيع مسجد الرسول ﷺ.
    - شراء بئر روما ليشرب منه المسلمون.
- اشترك (عثمان بن عفان) في كل الغزوات مع الرسول ﷺ ماعدا غزوة بدر لمرض زوجته رقية بنت الرسول ﷺ، استشهد سنة 35 هجرية.

## رابعًا: علي بن أبي طالب

- الخليفة الرابع للمسلمين، حكم من (35 - 40 هـ) ومن أهم أعماله:
- (1) نقل مقر (مكان) الخلافة (الحكم) إلى الكوفة بالعراق بدلًا من المدينة المنورة؛ ليسهل الانتقال بين أرجاء الدول الإسلامية بعد اتساعها.
  - (2) قام بتنظيم الشرطة؛ للحفاظ على أمن وسلامة المواطنين، فعين رئيسًا للشرطة سُمي باسم (صاحب الشرطة) وعين شرطة لحراسة بيت المال وحراسة السجن.
  - (3) خصص يومًا للنظر في مظالم الناس لحرصه على تطبيق العدل بين الرعية.
- استشهد سنة 40 هـ، وبذلك انتهى عصر الخلفاء الراشدين، وقد عُرف عنه البلاغة والحكمة.



(مسجد عمرو بن العاص أول مسجد في مصر)

## السؤال الأول: اكتب كلمة (صواب) أو كلمة (خطأ) أمام كل عبارة

- (1) كان عمر بن الخطاب هو الخليفة الأول للمسلمين. (.....)
- (2) ارتدت بعض القبائل عن الإسلام بعد وفاة الرسول ﷺ. (.....)
- (3) أنشأ عمر بن الخطاب الدواوين مثل ديوان الجند وبيت المال. (.....)
- (4) نقل الخليفة أبوبكر الصديق مقر الخلافة إلى الكوفة بالعراق. (.....)
- (5) أنفق عثمان بن عفان الكثير من ماله لنصرة الإسلام. (.....)
- (6) نجح أبوبكر الصديق في إعادة المرتدين إلى الإسلام. (.....)
- (7) أنشأ علي بن أبي طالب أول أسطول بحري في الإسلام. (.....)
- (8) استشهد عدد كبير من حفظة القرآن الكريم في حرب المرتدين. (.....)

## السؤال الثاني: ضع خطاً تحت الإجابة الصحيحة

- (1) عمر بن الخطاب هو الخليفة ..... للمسلمين.  
(أ) الأول (ب) الثاني (ج) الثالث (د) الرابع
- (2) عثمان بن عفان هو الخليفة ..... للمسلمين.  
(أ) الأول (ب) الثاني (ج) الثالث (د) الرابع
- (3) أبوبكر الصديق هو الخليفة ..... للمسلمين.  
(أ) الأول (ب) الثاني (ج) الثالث (د) الرابع
- (4) خصص الخليفة ..... يوماً للنظر في مظالم الناس.  
(أ) أبوبكر الصديق (ب) عمر بن الخطاب (ج) عثمان بن عفان (د) علي بن أبي طالب
- (5) قام الخليفة ..... بوضع التقويم الهجري وجعله بداية من الهجرة.  
(أ) أبوبكر الصديق (ب) عمر بن الخطاب (ج) عثمان بن عفان (د) علي بن أبي طالب
- (6) جمع الخليفة ..... القرآن في مصحف واحد، ووزعه على كل البلاد.  
(أ) أبوبكر الصديق (ب) عمر بن الخطاب (ج) عثمان بن عفان (د) علي بن أبي طالب

## السؤال الثالث: أكمل الجمل الآتية بكلمة من بنك الكلمات

- (أبوبكر الصديق - عمر بن الخطاب - عثمان بن عفان - علي بن أبي طالب)
- (1) أول من أنشأ أسطول بحري في الإسلام .....
  - (2) نجح في إعادة المرتدين إلى الإسلام .....
  - (3) قام بتنظيم الشرطة؛ للحفاظ على أمن المواطنين .....
  - (4) أنشأ عددًا من الدواوين مثل ديوان الجند .....

### السؤال الرابع: أجب

- (1) اذكر سببا واحدا: اتفق المسلمون على اختيار أبي بكر الصديق خليفة للرسول.  
.....
- (2) اكتب سبباً واحداً: إرسال الرسول ﷺ لجيش أسامة بن زيد إلى الشام.  
.....
- (3) اكتب سبباً واحداً: إنشاء عثمان بن عفان أول أسطول بحري في الإسلام.  
.....
- (4) اكتب نتيجة واحدة: استشهاد عدد كبير من حفظة القرآن في حرب المرتدين.  
.....
- (5) اكتب سبباً واحداً: قام علي بن أبي طالب بتنظيم الشرطة.  
.....

### السؤال الخامس: صوب ما تحته خط

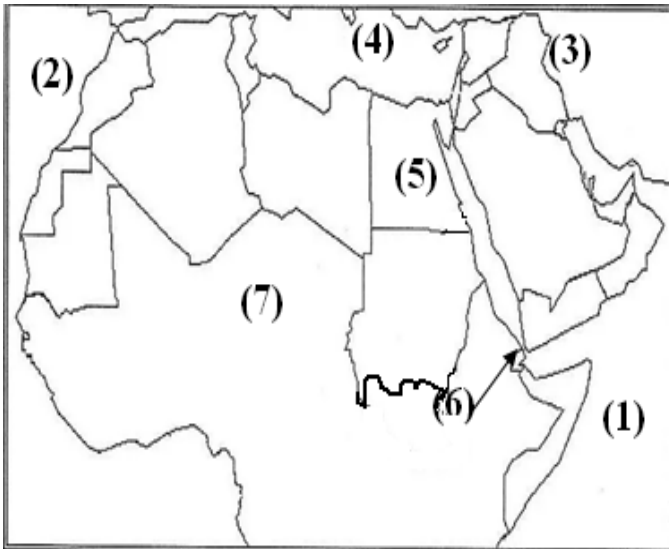
- (1) عثمان بن عفان هو الخليفة الأول للمسلمين. (.....)
- (2) أنشأ علي بن أبي طالب أول أسطول بحري في الإسلام. (.....)
- (3) نقل علي بن أبي طالب الخلافة من المدينة إلى مصر. (.....)

### السؤال السادس: حدد غير المناسبة للمجموعة

(أبو بكر الصديق – عمر بن الخطاب – عبدالرحمن بن عوف – عثمان بن عفان)

.....

### السؤال السابع: انظر إلى الخريطة وأكمل



- ..... يشير رقم (1) إلى المحيط
- ..... يشير رقم (2) إلى المحيط
- ..... يشير رقم (3) إلى جبال
- ..... يشير رقم (4) إلى البحر
- ..... يشير رقم (5) إلى دولة
- ..... يشير رقم (6) إلى مضيق
- ..... يشير رقم (7) إلى الصحراء

## الوحدة الثانية الدرس الأول مظاهر سطح الوطن العربي

- يتميز الوطن العربي بتنوع مظاهر السطح.
- أعلى نقطة في الوطن العربي جبل توبقال في المغرب 4165 م.
- أدنى نقطة في الوطن العربي البحر الميت في الأردن 430 م تحت سطح البحر.



### أولاً: الجبال

#### (1) الجبال الالتوائية:

- جبال نشأت نتيجة لحركات باطنية تعرضت لها الأرض مثل:
- في الجناح الأفريقي: جبال أطلس في (المغرب).
- في الجناح الآسيوي: جبال زاغروس وكردستان و عُمان.

#### (2) الجبال الانكسارية:

- جبال نشأت نتيجة حدوث انكسار في قشرة الأرض مثل:
- جبال البحر الأحمر في مصر والسودان.
- سلاسل جبال الحجاز وعسير ومرتفعات اليمن في شبه الجزيرة العربية.

## ثانيًا: الهضاب

- أكثر أشكال لسطح انتشارًا في الوطن العربي.

(1) **الجناح الأفريقي**: هضبة إفريقيا الشمالية أكبر الظاهرات التضاريسية مساحة،



تمتد من: - جبال البحر الأحمر شرقًا.

- المحيط الأطلسي غربًا.

- البحر المتوسط شمالًا.

- وسط أفريقيا جنوبًا.

(2) **الجناح الآسيوي**: هضبة حضرموت ونجد وبادية الشام.

- بعض الهضاب تحتوي على **الواحات** التي تقوم فيها الزراعة على المياه الجوفية،

ويعيش بها السكان مثل:

(1) واحة سيوة في مصر.

(2) واحة الكفرة في ليبيا.

(3) واحة عين صالح في الجزائر.



- تحتوي بعض الهضاب على **الأودية الجافة** التي تكونت بفعل التعرية المائية،

وتستخدم كطرق للمواصلات وللحصول على المياه الجوفية مثل:

( وادي الجرير في السعودية )

- وتنتشر في الهضاب **التجمعات الرملية**

التي تكونت بفعل التعرية الهوائية مثل:

(بحر الرمال العظيم بين مصر وليبيا)





## ثالثاً: السهول

### (1) السهول الفيضية:

- كونتها الأنهار عن طريق ترسيب المواد العالقة بالمياه، مما يكون تربة فيضية خصبة صالحة للزراعة، مثل:



- وادي النيل في مصر والسودان.
- سهول دجلة والفرات في العراق.

### (2) السهول الساحلية:

- سهول بجانب البحار والمحيطات مثل:
- سهول البحر المتوسط والمحيط الأطلنطي، وتتميز بكثرة الأمطار الشتوية ووجود الزراعة، وكثرة السكان، وسهولة الانتقال.

- سهول البحر الأحمر والخليج العربي، وتتميز بالثروات المعدنية ومصادر الطاقة، لكن تربتها رملية فقيرة، وقد يوجد بها الشعاب المرجانية التي تعوق (تمنع) الموانئ كما في البحر الأحمر، وهي قليلة السكان.

- تؤثر مظاهر السطح على أنشطة السكان الاقتصادية، ففي المناطق الجبلية تنتشر السياحة الترفيهية مثل:

- التزلج على جبال لبنان.
- البحيرات المالحة في سيوة في مصر.
- بحيرة عسل في جيبوتي.
- كما ينتشر النشاط التعدين في الصحراء لاستخراج المعادن.

## السؤال الأول: اكتب كلمة (صواب) أو كلمة (خطأ) أمام كل عبارة

- (1) يُعد البحر الميت أعلى نقطة في الوطن العربي. (.....)
- (2) جبال أطلس من الجبال الإلتوائية في الوطن العربي. (.....)
- (3) أحياناً تستخدم الأودية الجافة كطرق للمواصلات. (.....)
- (4) السهول الساحلية كونتها الأنهار عن طريق الترسيب. (.....)
- (5) تتميز سهول البحر المتوسط بكثرة الأمطار الشتوية. (.....)
- (6) تكونت الأودية الجافة بفعل التعرية المائية. (.....)
- (7) لا تؤثر مظاهر السطح على أنشطة السكان الاقتصادية. (.....)

## السؤال الثاني: ضع خطاً تحت الإجابة الصحيحة

- (1) من الجبال الإلتوائية في الوطن العربي جبال .....  
(أ) الحجاز (ب) عسير (ج) أطلس (د) مرتفعات اليمن
- (2) سهول البحر الأحمر تتميز ب .....  
(أ) كثرة الأمطار (ب) كثرة السكان (ج) قلة السكان (د) سهولة الانتقال
- (3) توجد واحة عين صالح في دولة .....  
(أ) اليمن (ب) مصر (ج) السعودية (د) الجزائر
- (4) أكبر الظواهر التضاريسية في الوطن العربي هي هضبة .....  
(أ) حضرموت (ب) نجد (ج) بادية الشام (د) أفريقيا الشمالية
- (5) يوجد وادي النيل في دولتي .....  
(أ) مصر ولبنان (ب) مصر وسوريا (ج) مصر وتونس (د) مصر والسودان

## السؤال الثالث: أكمل الجمل الآتية

( الأنهار – المعدنية – الاقتصادية )

- (1) سهول البحر الأحمر والخليج العربي، وتتميز بالثروات .....
- (2) تؤثر مظاهر السطح على أنشطة السكان .....
- (3) السهول الفيضية سهول كونتها ..... بترسيب المواد العالقة بالمياه.

## السؤال الرابع: اكتب ما تدل عليه العبارة

- (1) كونتها الأنهار عن طريق ترسيب المواد العالقة بالمياه. (.....)
- (2) جبال نشأت نتيجة حدوث انكسار في قشرة الأرض. (.....)
- (3) أدنى نقطة في الوطن العربي من حيث الارتفاع. (.....)

### السؤال الخامس: أجب

(1) اذكر سببا واحدا: قيام الزراعة في الواحات.

(2) ماذا تتوقع إذا: زادت الأمطار على سهول البحر الأحمر والخليج العربي.

(3) اكتب دليلا على: أهمية الأودية الجافة.

(4) اكتب نتيجة واحدة تترتب على: كثرة الأمطار على سواحل البحر المتوسط.

(5) اكتب سببا واحدا: قلة الموانئ على البحر الأحمر.

### السؤال السادس: صوب ما تحته خط

(1) تتميز سهول البحر المتوسط بقلّة الأمطار الشتوية. (.....)

(2) تكونت الأودية الجافة بفعل التعرية الهوائية. (.....)

(3) السهول الساحلية كونتها الأنهار عن طريق الترسيب. (.....)

### السؤال السابع: ما المقصود بـ:

(1) الجبال الإنكسارية: .....

### السؤال الثامن: انظر إلى الخريطة وأكمل

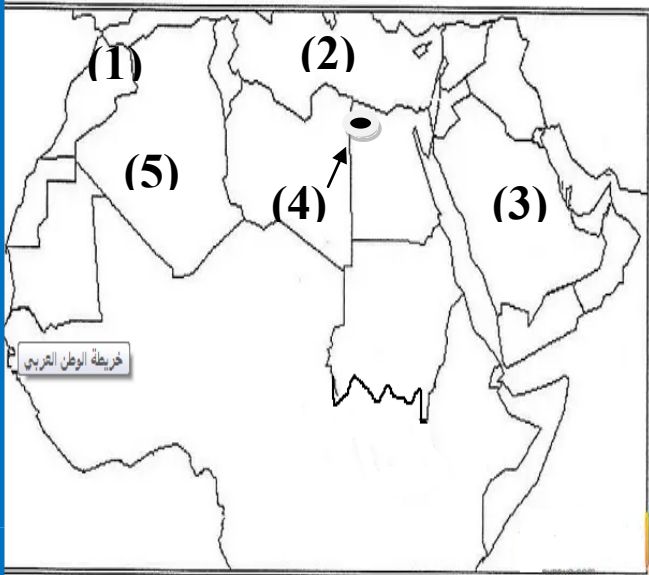
(1) يشير رقم (1) إلى جبال ..... في المغرب.

(2) يشير رقم (2) إلى البحر .....

(3) يشير رقم (3) إلى هضبة .....

(4) يشير رقم (4) إلى واحة ..... في مصر.

(5) يشير رقم (5) إلى أكبر دولة عربية .....



## الدرس الثاني العوامل المؤثرة على مناخ الوطن العربي

– أسباب وجود تباين (اختلاف) بين درجة الحرارة وكمية الأمطار في الوطن العربي:

### (1) الموقع الفلكي:

يقع الوطن العربي بين ...

– خطي طول  $60^\circ$  شرقاً، و  $17^\circ$  غرباً.

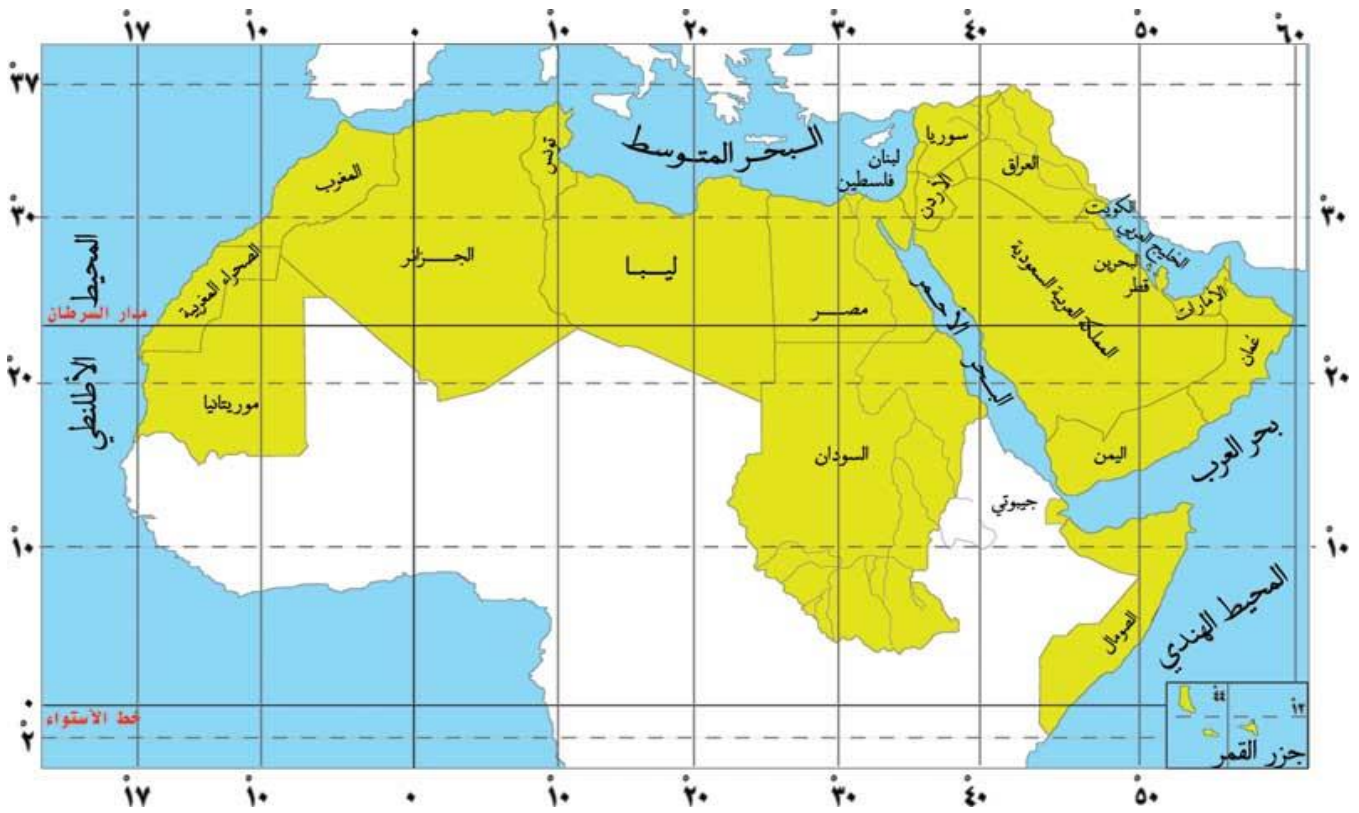
– دائرتي عرض  $2^\circ$  جنوبياً و  $37.5^\circ$  شمالاً.

– تمر دائرة الاستواء جنوب الوطن العربي؛ مما يؤدي إلى ...

– ارتفاع درجة الحرارة جنوباً.

– انخفاض درجة الحرارة كلما اتجهنا شمالاً.

– يسود (ينتشر) المناخ الحار معظم الوطن العربي، والمناخ المعتدل في الشمال.



## (2) القرب والبعد عن المسطحات المائية

يمتد الوطن العربي في قارتي آسيا وأفريقيا يقترب من أوروبا؛ مما يُعرضه لهبوب رياح شديدة البرودة من أوروبا وشمال آسيا؛ فتتخفض الحرارة شتاءً ويتعرض لرياح حارة في جنوب آسيا فترتفع الحرارة صيفاً.

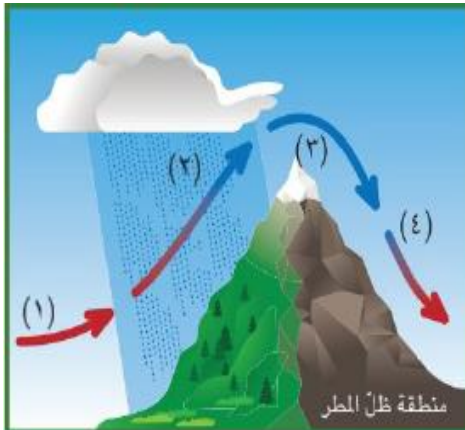
- المناطق الساحلية القريبة من المسطحات المائية تكون أكثر اعتدالاً من المناطق الداخلية؛ حيث أن المسطحات المائية تلطف درجة الحرارة وتقلل المدى الحراري اليومي والسنوي وتزيد من فرصة سقوط الأمطار.

- مدينة الإسكندرية في مصر أكثر اعتدالاً من مدينة الرياض في السعودية؛ لأن الإسكندرية مدينة ساحلية، والرياض منطقة داخلية بعيدة عن المسطحات المائية.

- يقل تأثير المسطحات المائية في الوطن العربي؛ بسبب ضيق مساحتها وعدم توغلها (دخولها) في الداخل لوجود الصحاري ووجود مرتفعات قريبة من السواحل مثل جبال البحر الأحمر.

## (3) مظاهر السطح:

- كلما ارتفعنا 150 م فوق سطح البحر تنخفض درجة الحرارة درجة واحدة، لذلك نلاحظ انخفاض درجة الحرارة وتكوين الثلوج فوق جبال لبنان.



- يؤثر اتجاه المرتفعات على كمية المطر؛ حيث تسقط الأمطار بغزارة (بكثرة) على منحدرت الجبال المواجهة للرياح المحملة ببخار الماء، بينما تنعدم على الجهات الداخلية للمرتفعات.

#### (4) التيارات البحرية: (حركة مياه البحار والمحيطات)

- تؤثر التيارات البحرية على مناخ المناطق الساحلية..

- التيارات البحرية الدافئة: ترفع درجة حرارة السواحل التي تمر بها.

- التيارات البحرية الباردة: تعمل على خفض درجة الحرارة السواحل.

- مناخ الوطن العربي حار في الصيف، ومعتدل في الشتاء.

- في فصل الصيف تتعامد الشمس على مدار **السرطان**؛ مما يؤدي إلى ارتفاع درجة الحرارة، ويتسم الصيف بالجفاف (قلة الأمطار) ماعدا:

- مرتفعات اليمن.

- مرتفعات عسير.

- الصومال.

- جنوب موريتانيا.

- في فصل الشتاء تتعامد الشمس على مدار **الجدي**؛ وتكون الحرارة معتدلة على معظم أجزاء الوطن العربي، أما الأجزاء الشمالية والجبلية تكون شديدة البرودة، ويكون الشتاء ممطرًا خاصة في المناطق المطلة على البحر المتوسط.

- يؤثر المناخ على على كافة الأنشطة البشرية مثل:

#### (الزراعة والصناعة والصيد والطيران)

- حيث تؤدي الأحوال الجوية السيئة إلى تأجيل رحلات الطيران أو إلغائها.

- يجب مراعاة الظروف المناخية عند اختيار أماكن المطارات، فتكون بعيدة عن

أماكن العواصف والضباب والسحب المنخفضة، ومراعاة اتجاهات الرياح.

## السؤال الأول: اكتب كلمة (صواب) أو كلمة (خطأ) أمام كل عبارة

- (1) تتباين درجات الحرارة وكمية الأمطار بين دول الوطن العربي. (.....)
- (2) تمر دائرة الاستواء شمال دول الوطن العربي. (.....)
- (3) يسود المناخ الحار معظم دول الوطن العربي. (.....)
- (4) المناطق الساحلية القريبة من المسطحات المائية أكثر اعتدالاً. (.....)
- (5) يؤثر المناخ على كافة الأنشطة البشرية. (.....)
- (6) كلما ارتفعنا فوق سطح البحر تنخفض درجة الحرارة. (.....)
- (7) مناخ الوطن العربي حار في الصيف، ومعتدل في الشتاء. (.....)

## السؤال الثاني: ضع خطاً تحت الإجابة الصحيحة

- (1) تمر دائرة الاستواء ..... الوطن العربي.  
(أ) شمال (ب) جنوب (ج) شرق (د) غرب
- (2) المسطحات المائية ..... درجة الحرارة.  
(أ) تزيد (ب) تُلطف (ج) ترفع (د) لا شيء مما سبق
- (3) كلما ارتفعنا 150 م فوق سطح البحر تنخفض درجة الحرارة .....  
(أ) درجة واحدة (ب) درجتان (ج) ثلاث درجات (د) أربع درجات
- (4) في فصل الشتاء تتعامد الشمس على مدار .....  
(أ) السرطان (ب) الجدي (ج) دائرة الاستواء (د) كل ما سبق
- (5) يكون الشتاء ممطراً في الأجزاء ..... من الوطن العربي.  
(أ) الشمالية (ب) الجنوبية (ج) الشرقية (د) الغربية

## السؤال الثالث: أكمل الجمل الآتية

( الجدي – الشتاء – الاستواء )

- (1) تمر دائرة ..... جنوب الوطن العربي.
- (2) في فصل الشتاء تتعامد الشمس على مدار .....
- (3) مناخ الوطن العربي حار في الصيف، ومعتدل في .....

## السؤال الرابع: اكتب ما تدل عليه العبارة

- (1) حركة مياه البحار والمحيطات. (.....)
- (2) الموقع بالنسبة لخطوط الطول ودوائر العرض. (.....)
- (3) مدار تتعامد عليه الشمس في فصل الصيف. (.....)

### السؤال الخامس: أجب

- (1) اذكر سببا واحدا: ارتفاع درجة الحرارة صيفا على الوطن العربي.  
.....
- (2) اذكر سببا واحدا: يقل تأثير المسطحات المائية في الوطن العربي.  
.....
- (3) اذكر سببا واحدا: مدينة الإسكندرية أكثر اعتدالاً من مدينة الرياض.  
.....
- (4) اكتب نتيجة واحدة تترتب على: مرور دائرة الاستواء جنوب الوطن العربي.  
.....
- (5) اكتب نتيجة واحدة: هبوب رياح شديدة البرودة من أوروبا على الوطن العربي.  
.....

### السؤال السادس: صوب ما تحته خط

- (1) الصيف ممطر في المناطق المظلة على البحر المتوسط. (.....)
- (2) تمر دائرة الاستواء شمال دول الوطن العربي. (.....)
- (3) التيارات البحرية الباردة ترفع درجة حرارة السواحل البحرية. (.....)

### السؤال السابع: ما المقصود بـ:

- (1) التيارات البحرية: .....

### السؤال الثامن: أجب

- مدينة (أ) تقع عند مستوى سطح البحر درجة الحرارة بها 35 درجة مئوية.  
ومدينة (ب) قريبة منها في المكان، ولكنها تقع أعلى جبل بارتفاع 300 م.  
أوجد درجة الحرارة في المدينة (ب)
- .....
- .....
- .....
- .....



## الدرس الثالث الأقاليم المناخية والنباتية في الوطن العربي

### – الإقليم المناخي:

- منطقة جغرافية على سطح الأرض تتسم بخصائص مناخية تميزها عن غيرها.
- يمتد الوطن العربي على مساحة 40 دائرة عرض، ومساحة تزيد عن 13 مليون كم<sup>2</sup>، ونتج عن ذلك وجود عدة مناطق مناخية بالوطن العربي.
- تختلف درجات الحرارة بين مدينة الإسكندرية عن مدينة الكويت؛ لأن كل مدينة منهما تقع في إقليم مناخي مختلف.
- توجد ثلاثة أقاليم مناخية في الوطن العربي.



### (1) إقليم البحر المتوسط:

- يقع في الأطراف الشمالية للوطن العربي بين دائرتي (30° – 37.5° شمالاً) وتشمل المناطق المطلة على سواحل البحر المتوسط:
- في شمال إفريقيا: في المغرب العربي (المغرب وتونس والجزائر) ومصر وليبيا.
- وفي آسيا: في فلسطين ولبنان ومعظم سوريا وشمال العراق.
- يتميز المناخ بأنه جاف حار في الصيف.
- دافئ ممطر في الشتاء.
- تنتشر في هذا الإقليم: أشجار الأرز والزيتون والصنوبر.
- حشائش الإستبس وتُربى عليها الماعز والأغنام.

## (2) الإقليم الصحراوي الحار:

- يشمل معظم أراضي الوطن العربي ما بين دائرتي ( 15° - 30° شمالاً )، وتمتد من الخليج العربي شرقاً حتى ساحل موريتانيا غرباً، وساحل الصومال.
- يتميز المناخ بأنه - ندرة الأمطار طوال السنة، وقد تسقط على هيئة سيول.
- الشتاء معتدل نهاراً شديدة البرودة ليلاً.
- قد تصل درجة الحرارة إلى تحت الصفر في بعض الأماكن.
- الصيف شديد الحرارة وقد تصل الحرارة إلى 50° مئوية.
- تنتشر في هذا الإقليم بعض النباتات التي تتحمل الجفاف مثل: الصبار.
- تعيش فيه بعض الحيوانات مثل: ثعلب الصحراء والزواحف.

## (3) الإقليم المداري:

- يقع في جنوب الوطن العربي، يشمل أجزاء من الصومال وجيبوتي والسودان وموريتانيا والجزء الجنوبي الغربي من شبه الجزيرة العربية.
- يتميز المناخ بأنه

- الشتاء معتدل جاف. - الصيف حار ممطر.

- تنمو في هذا الإقليم حشائش السافانا.

- تعيش في هذا الإقليم حيوانات الزراف والأسود.

\* تنوع الأقاليم المناخية أدى إلى تنوع النباتات الطبيعية والحيوانات البرية.

\* تتعرض هذه الحيوانات والنباتات لمخاطر مثل الإنقراض؛ بسبب الأنشطة البشرية.

\* أقامت بعض الدول المحميات الطبيعية؛ لحماية الحياة البرية وجذب السياح،

وتحقيق التوازن البيئي، والحد من التلوث، وتحقيق التنمية المستدامة.

من هذه المحميات:

(1) أرز الشوف في لبنان. (2) ضانا في الأردن. (3) جبل غلبة في مصر.

- تقوم الدول بسن (وضع) القوانين؛ لحماية المحميات الطبيعية من الرعي الجائر والصيد الجائر والتلوث البيئي.

## السؤال الأول: اكتب كلمة (صواب) أو كلمة (خطأ) أمام كل عبارة

- (1) مساحة الوطن العربي تزيد عن 13 مليون كم<sup>2</sup>. (.....)
- (2) يقع إقليم البحر المتوسط في الأطراف الجنوبية للوطن العربي. (.....)
- (3) يتميز إقليم البحر المتوسط في الشتاء بأنه دافئ ممطر. (.....)
- (4) تنتشر أشجار الأرز والزيتون في إقليم البحر المتوسط. (.....)
- (5) يتميز الإقليم الصحراوي الحار بكثرة الأمطار طوال السنة. (.....)
- (6) تصل درجة الحرارة إلى تحت الصفر في بعض الدول العربية. (.....)
- (7) أقامت بعض الدول المحميات الطبيعية؛ لحماية الحياة البرية. (.....)

## السؤال الثاني: ضع خطاً تحت الإجابة الصحيحة

- (1) يمتد الوطن العربي على مساحة ..... دائرة عرض.  
(أ) 20 (ب) 30 (ج) 40 (د) 50
- (2) توجد ..... أقاليم مناخية في الوطن العربي.  
(أ) ثلاثة (ب) أربعة (ج) خمسة (د) ستة
- (3) كل ما يأتي من الأشجار التي تنمو في إقليم البحر المتوسط ما عدا .....  
(أ) الأرز (ب) الزيتون (ج) السنط (د) الصنوبر
- (4) في الإقليم المداري تسقط الأمطار في فصل .....  
(أ) الشتاء (ب) الصيف (ج) الربيع (د) الخريف
- (5) تنمو حشائش الإستبس في .....  
(أ) إقليم البحر المتوسط (ب) الإقليم الصحراوي الحار (ج) الإقليم المداري

## السؤال الثالث: أكمل الجمل الآتية

- (1) توجد محمية أرز الشوف الطبيعية في دولة .....
- (2) تنمو حشائش السافانا في الإقليم .....
- (3) من الحيوانات التي تعيش في الإقليم المداري .....
- (4) تنتشر في الإقليم الصحراوي نباتات تتحمل الجفاف مثل: .....

## السؤال الرابع: اكتب ما تدل عليه العبارة

- (1) منطقة جغرافية على الأرض تتسم بخصائص مناخية مميزة. (.....)
- (2) مناطق أقامتها الدول؛ لحماية الحياة البرية وجذب السياح. (.....)
- (3) مدار تتعامد عليه الشمس في فصل الصيف. (.....)

## السؤال الخامس: أجب

(1) اذكر سبباً: تختلف درجات الحرارة بين مدينة الإسكندرية عن مدينة الكويت.

(2) اكتب سبباً واحداً: تعرض الحيوانات والنباتات لمخاطر مثل الإنقراض.

(3) اكتب إجراءً واحداً قامت به الدول لحماية المحميات الطبيعية.

(4) اكتب نتيجة واحدة تترتب على: تنوع الأقاليم المناخية.

(5) اكتب سبباً واحداً: ينمو الصبار في الإقليم الصحراوي الجاف.

## السؤال السادس: صوب ما تحته خط

(1) يقع إقليم البحر المتوسط في الأطراف الجنوبية للوطن العربي. (.....)

(2) يتميز الإقليم الصحراوي الحار بكثرة الأمطار طوال السنة. (.....)

(3) تنتشر في الإقليم المداري نباتات تتحمل الجفاف مثل الصبار. (.....)

## السؤال السابع: ما المقصود بـ:

(1) الإقليم المناخي:

## السؤال الثامن: انظر إلى الخريطة

(1) المنطقة رقم (1) من مناطق

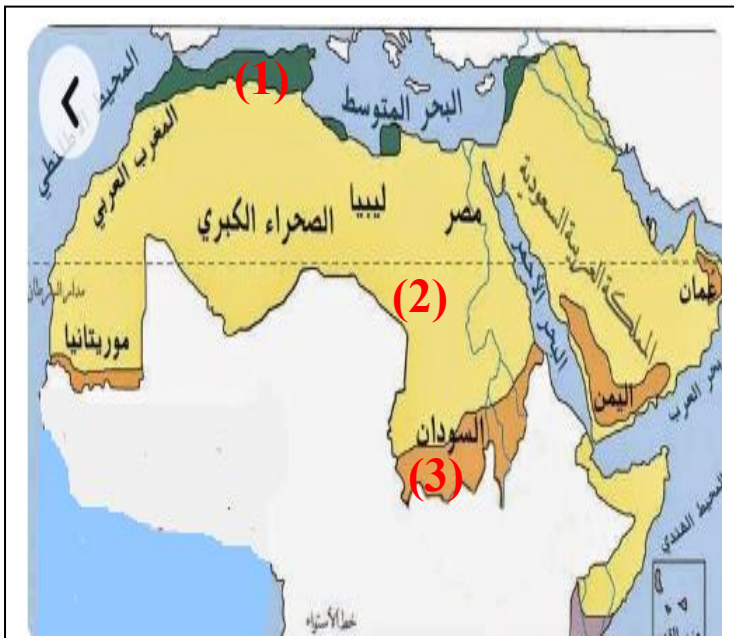
الإقليم

(2) المنطقة رقم (2) من مناطق

الإقليم

(3) المنطقة رقم (3) من مناطق

الإقليم



## الدرس الرابع المشكلات البيئية في الوطن العربي

- شاركت الدول العربية في مؤتمر المناخ للأمم المتحدة في مدينة شرم الشيخ في مصر؛ لمناقشة قضية التغير المناخي وما يترتب عليه من مشكلات تؤثر على البيئة
- يواجه الوطن العربي مشكلات بيئية عديدة مثل: التغير المناخي الذي يؤثر على كمية الأمطار ودرجات الحرارة، مما يؤدي إلى ظهور مشكلات بيئية أخرى مثل: ( الجفاف وندرة المياه العذبة – التصحر )



### (1) مشكلة الجفاف وندرة المياه:

- **الجفاف**: هو نقص كمية الأمطار في بعض السنوات بما لا يسمح بالزراعة أو نمو الحشائش.
- تتعرض كثير من الدول العربية لمشكلة الجفاف.
- تُعاني (تُقاسي) الصومال من أكبر موجة جفاف؛ تسببت في نقص الغذاء وحدوث مجاعة لأكثر من مليون شخص.
- تُعاني الدول العربية من ندرة (قلة) المياه العذبة؛ نتيجة لزيادة معدل نمو السكان، والتوسع المستمر في الزراعة.

### (2) مشكلة التصحر:

- **التصحر**: تدهور (سوء) الأراضي وتناقص قدرتها على الإنتاج.

#### أسباب مشكلة التصحر:

- (1) استخدام طرق الري التقليدية.
- (2) الإفراط (الزيادة) في استخدام الأسمدة الكيماوية والمبيدات الحشرية.
- (3) زحف الكثبان الرملية.
- (4) تناقص المياه الجوفية.
- (5) التوسع العمراني.
- (6) الرعي الجائر للحيوانات.
- (7) إزالة الغابات.



- يُعاني ثلثي الوطن العربي من مشكلة التصحر.

## أضرار وأخطار المشكلات البيئية

- (1) تهدد هذه المشكلات صحة المواطن العربي وحياته.
- (2) تُعيق (تُعطل) تنفيذ الخطط التنموية.
- (3) تؤدي إلى تدمير الحياة النباتية والحيوانية.



## جهود الدول العربية لمواجهة المشكلات البيئية

- (1) إقامة مساكن لاستقرار الرعاة.
  - (2) إصدار قوانين تُجرّم القطع العشوائي للأشجار.
  - (3) استخدام مصادر الطاقة النظيفة.
  - (4) إنشاء المدن الذكية؛ لتقليل انبعاث الغازات الدفيئة.
  - (5) زيادة المساحات الخضراء.
- قامت مصر بمبادرة زراعة 100 مليون شجرة مثمرة.
- أطلق السعودية مبادرة زراعة 450 ألف شجرة وإنشاء مدينة (نيوم) الخضراء عام 2022 م.

\* قام أبناء مدينة الخارجة في محافظة الوادي الجديد بعدد من المشروعات الخضراء لإعادة استخدام المخلفات للحفاظ على البيئة، والتغلب على التغيرات المناخية، مثل: مشروع صناعة الأخشاب من مخلفات النخيل، وبذلك كانت الخارجة أول مدينة مصرية صديقة للبيئة، وفازت بلقب عاصمة المدن العربية 2022 م.

\* تحتفل الدول العربية باليوم العربي للبيئة يوم 14 أكتوبر من كل عام؛ للتوعية بالمشكلات البيئية التي تواجه العالم العربي، وتم إنشاء مجلس وزراء البيئة العرب.

## شخصيات مؤثرة

### (1) النبي محمد ﷺ

- هو محمد بن عبدالله بن عبدالمطلب.
- ولد في مكة 570 م (عام الفيل).
- عمل ﷺ في شبابه في حرفة الرعي وتعلم منها الرحمة.
- عمل ﷺ في التجارة واتصف بالأمانة، وسُمى بالصادق الأمين.
- كان ﷺ يذهب إلى غار (حراء)؛ للعبد والتأمل.
- كان ﷺ يجتمع سرًا مع المسلمين في دار (الأرقم بن الأرقم).
- كان ﷺ حليماً وباسماً، ويساعد المحتاج ويزور المريض، ويحترم المرأة.
- كان ﷺ يستشير أصحابه في الغزوات.
- أدى ﷺ فريضة الحج في العام العاشر من الهجرة.
- توفي ﷺ سنة 11 هـ ودُفن في المدينة ، بعد أن أدى الأمانة وبلغ الرسالة.

### (2) الخليفة أبو بكر الصديق

- اسمه عبدالله بن عثمان.
- ولد في مكة بعد عام الفيل.
- اشتهر بحسن الخلق قبل الإسلام.
- هو أول من أسلم من الرجال.
- وصفه الرسول ﷺ بالصدق.
- أسلم على يديه كثير من الصحابة مثل عثمان بن عفان.
- كان صاحب الرسول ﷺ في الهجرة إلى المدينة المنورة.
- ترج الرسول من ابنته عائشة.
- هو الخليفة الأول للمسلمين.
- حارب المرتدين وفتح الشام والعراق.
- توفي وعمره 63 سنة.

### السؤال الأول: اكتب كلمة (صواب) أو كلمة (خطأ) أمام كل عبارة

- (1) يواجه الوطن العربي مُشكلات بيئية عديدة. (.....)
- (2) لا يُؤثر الجفاف على النشاط الزراعي ونمو الحشائش. (.....)
- (3) تتعرض كثير من الدول العربية لمشكلة الجفاف. (.....)
- (4) أصدرت الدول العربية قوانين تجرم القطع العشوائي للأشجار. (.....)
- (5) ولد أبو بكر الصديق في مكة المكرمة بعد عام الفيل. (.....)
- (6) الرعي الجائر للحيوانات من أسباب التصحر. (.....)
- (7) أبو بكر الصديق هو الخليفة الثاني للمسلمين. (.....)

### السؤال الثاني: ضع خطاً تحت الإجابة الصحيحة

- (1) توفي الرسول ﷺ ودُفن في .....  
(أ) مصر (ب) المدينة (ج) مكة (د) فلسطين
- (2) تُعاني الدول العربية من ..... المياه العذبة.  
(أ) زيادة (ب) كثرة (ج) وفرة (د) ندرة
- (3) الرعي الجائر للحيوانات من أسباب .....  
(أ) الجفاف (ب) التصحر (ج) التنمية (د) سقوط الأمطار
- (4) أكثر الدول تعرضاً لخطر الجفاف .....  
(أ) مصر (ب) تونس (ج) السعودية (د) الصومال
- (5) أبو بكر الصديق هو ..... من أسلم من الرجال.  
(أ) أول (ب) ثاني (ج) ثالث (د) رابع

### السؤال الثالث: أكمل الجمل الآتية

( الكيماوية - الدفيئة - جفاف )

- (2) تُعاني الصومال من أكبر موجة .....
- (3) الإفراط في استخدام الأسمدة ..... يؤدي إلى التصحر.
- (4) إنشاء المدن الذكية يُقلل من انبعاث الغازات .....

### السؤال الرابع: اكتب ما تدل عليه العبارة

- (1) تدهور الأراضي وتناقص قدرتها على الإنتاج. (.....)
- (2) هو نقص كمية الأمطار في بعض السنوات. (.....)
- (3) مدار تتعامد عليه الشمس في فصل الصيف. (.....)



### السؤال الخامس: أجب

(1) اذكر سببا واحدا: تُعاني الدول العربية من ندرة المياه العذبة.

(2) ماذا تتوقع إذا: نقصت كمية الأمطار في بعض السنوات.

(3) اكتب سبباً واحداً: إنشاء بعض الدول العربية المدن الذكية.

(4) اكتب دليلاً على: جهود الدول العربية لعلاج المشكلات البيئية.

(5) ما العلاقة بين: التصحر - إزالة الغابات.

### السؤال السادس: صوب ما تحته خط

(1) أبو بكر الصديق هو الخليفة الثاني للمسلمين. (.....)

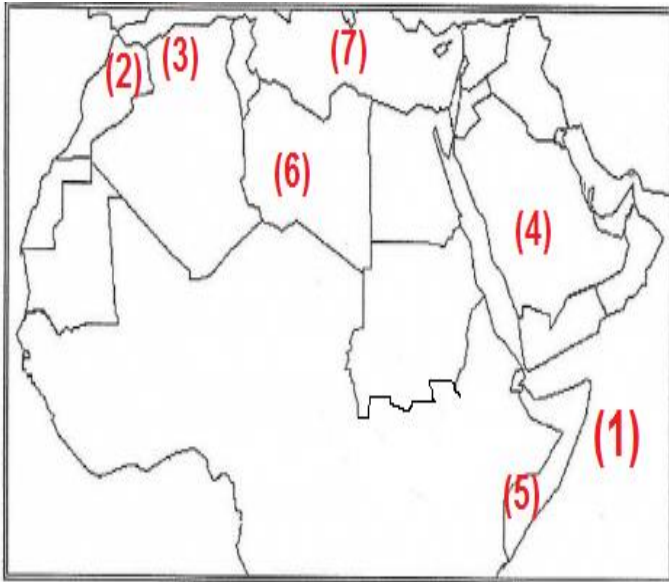
(2) ولد الرسول في المدينة المنورة 570 م (عام الفيل). (.....)

(3) المشكلات البيئية تشجع تنفيذ الخطط التنموية. (.....)

### السؤال السابع: ما المقصود بـ:

(1) التصحر :

### السؤال الثامن: انظر إلى الخريطة



(1) المحيط

(2) جبل ..... في المغرب.

(3) إقليم ..... المناخي.

(4) دولة بها مدينة نيوم

(5) أكثر الدول تعرضاً للجفاف

(6) أكبر الدول العربية مساحة

(7) البحر

## الوحدة الثالثة الدرس الأول الزراعة في الوطن العربي

### مقومات الزراعة في الوطن العربي:

#### أولاً: المقومات الطبيعية

- (1) **موارد المياه العذبة** تقوم الزراعة في الوطن العربي على مياه..
  - الأنهار كما في مصر والسودان والعراق.
  - المياه الجوفية (الآبار والعيون) في الواحات في الصحاري في مصر والإمارات.
  - مياه الأمطار في الأجزاء الشمالية من الوطن العربي وفي اليمن وجنوب موريتانيا.
- (2) **التربة الخصبة**
  - التربة الخصبة (الصالحة للزراعة) توجد على جانبي الأنهار.



#### (3) المناخ

- تنوع المناخ يؤدي إلى تنوع (اختلاف) المحاصيل.

#### أولاً: المقومات البشرية

#### (1) الأيدي العاملة المدربة

#### (2) رأس المال

- ضروري لإقامة المشروعات الزراعية وشراء الآلات والبذور والأسمدة.

#### (3) وسائل النقل

- تنقل ما تحتاجه الزراعة من مواد، وتنقل المنتجات الزراعية إلى أماكن الاستهلاك

#### (4) السوق

- يوجد طلب متزايد على المنتجات الغذائية في الأسواق المحلية والأسواق العالمية.

### أهم المحاصيل الزراعية في الوطن العربي:



- تنتوع المحاصيل الزراعية في الوطن العربي .

- تحتل مصر المركز الأول في إنتاج:

#### (1) الحبوب الغذائية: ( القمح - الأرز - الذرة ).

#### (2) المحاصيل السكرية: (قصب السكر - بنجر السكر).

#### (3) التمور.

- وتنتشر زراعة ...

#### - الموالح والعنب والموز والتين والزيتون. (في مصر والعراق وفلسطين)

#### - محاصيل الألياف (القطن - الكتان) (في مصر والسودان)

- تنتشر زراعة البن في اليمن.

## أهمية الزراعة في الوطن العربي:

- (1) توفر المنتجات الغذائية للإنسان والحيوان.
- (2) توفر فرص عمل للسكان. (يعمل بالزراعة 15% من العمال).
- (3) توفير المواد الخام اللازمة للصناعة.
- (4) مصدر من مصادر الدخل القومي لبعض الدول العربية.

## مشكلات الزراعة في الوطن العربي:

- (1) ندرة المياه العذبة.
- (2) تذبذب (عدم استقرار) كمية الأمطار.
- (3) التصحر وزحف الرمال.
- (4) الجفاف.



## جهود الدول العربية لحل مشكلات الزراعة:

- (1) إنشاء السدود والخزانات.
- (2) تحلية مياه البحر.
- (3) معالجة مياه الصرف الصحي واستخدامها في الزراعة.
- (4) استخدام الأسمدة العضوية.
- (5) استنباط (إنتاج) أنواع جديدة من البذور تتكيف مع التغيرات المناخية.
- (6) تدريب العاملين في الزراعة على استخدام الطرق الحديثة في الزراعة.

- تتجه الدول العربية إلى الزراعة الرقمية التي تستخدم أجهزة الاستشعار عن بُعد والذكاء الاصطناعي والروبوتات.

- تعمل الدول العربية على تطوير نظم الزراعة؛ من أجل تحقيق الأمن الغذائي للمواطنين.

- تستخدم مصر والسعودية الري بالرش؛ لتوفير المياه العذبة.

- **الزراعة المائية:** نوع من الزراعة لا يحتاج إلى تربة وهو يوفر الماء بنسبة 80% ويمكن تربية الأسماك على هذه المياه.



- تحتفل الدول العربية بيوم الزراعة العربي يوم 27 سبتمبر من كل عام.

- اختارت منظمة الزراعة والأغذية (الفاو) واحة العين وليوا في الإمارات، واحة سيوة في مصر مواقع للتراث الزراعي العالمي.

### السؤال الأول: اكتب كلمة (صواب) أو كلمة (خطأ) أمام كل عبارة

- (1) تقوم الزراعة في الأجزاء الشمالية للوطن العربي على مياه الأنهار. (.....)
- (2) التربة الخصبة من المقومات البشرية لقيام الزراعة. (.....)
- (3) تنوع المناخ يؤدي إلى تنوع (اختلاف) المحاصيل. (.....)
- (4) تعمل الدول العربية على تطوير نظم الزراعة. (.....)
- (5) تحتل مصر المركز الأول في إنتاج البن. (.....)
- (6) التصحر وزحف الرمال من مشكلات الزراعة في الوطن العربي. (.....)
- (7) تحتل مصر المركز الثاني في إنتاج الأرز والقمح في الوطن العربي. (.....)

### السؤال الثاني: ضع خطاً تحت الإجابة الصحيحة

- (1) من المقومات الطبيعية لقيام الزراعة .....  
 (أ) السوق (ب) وسائل النقل (ج) الأيدي العاملة (د) التربة
- (2) تنتشر زراعة البن في دولة .....  
 (أ) اليمن (ب) مصر (ج) قطر (د) العراق
- (3) أولى الدول في إنتاج التمور في الوطن العربي .....  
 (أ) مصر (ب) اليمن (ج) قطر (د) سوريا
- (4) من المحاصيل السكرية .....  
 (أ) القطن (ب) البن (ج) البنجر (د) القمح
- (5) من مواقع التراث الزراعي في مصر واحة .....  
 (أ) الفرافرة (ب) الخارجة (ج) الداخلة (د) سيوة

### السؤال الثالث: أكمل الجمل الآتية

- (1) تقوم الزراعة في الواحات على مياه .....
- (2) تتركز زراعة البن في دولة .....
- (3) تقوم الزراعة في الأجزاء الشمالية للموطن العربي على مياه .....

### السؤال الرابع: اكتب ما تدل عليه العبارة

- (1) نوع من الزراعة لا يحتاج إلى تربة ويوفر الماء. (.....)
- (2) واحة مصرية من مواقع التراث الزراعي العالمي. (.....)

### السؤال الخامس: استبعد الكلمة المختلفة مما يأتي

( القمح - الأرز - السكر - الذرة )

### السؤال السادس: أجب

(1) اذكر سببا واحدا: الزراعة لها أهمية كبيرة في الوطن العربي.

(2) ماذا تتوقع إذا: زادت المياه العذبة في الوطن العربي؟

(3) اكتب دليلا على: أن الدول العربية تهتم بحل مشكلات البيئة الزراعية.

(4) اكتب نتيجة واحدة تترتب على: تنوع المناخ في الوطن العربي.

(5) اكتب سببا واحدا: قيام الزراعة في الواحات.

### السؤال السابع: صوب ما تحته خط

(1) تحتل مصر المركز الثاني في إنتاج الأرز في الوطن العربي. (.....)

(2) التربة الخصبة من المقومات البشرية لقيام الزراعة. (.....)

(3) تحتل مصر المركز الأول في إنتاج البن. (.....)

### السؤال الثامن: ما المقصود بـ:

(1) الزراعة المائية:

### السؤال التاسع: انظر إلى الخريطة واختر

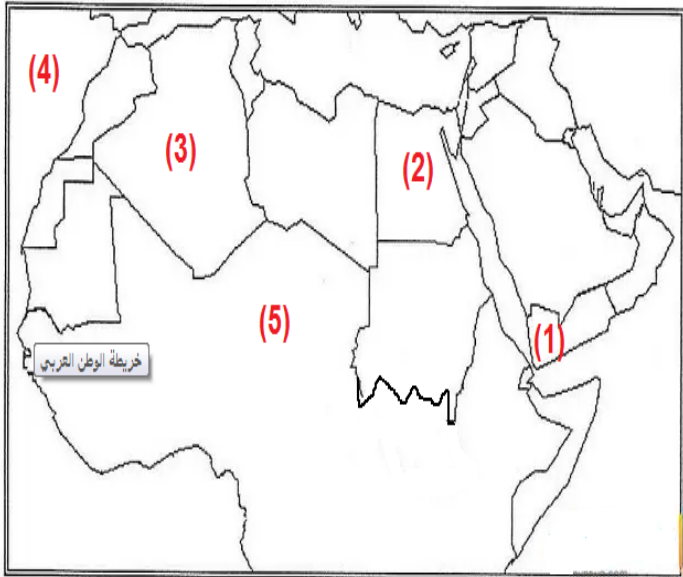
(1) دولة تحتل المركز الأول في زراعة البن

(2) دولة تحتل المركز الأول في زراعة القمح

(3) أكبر دولة عربية من حيث المساحة

(4) المحيط

(5) الصحراء



## الدرس الثاني الثروة الحيوانية والسمكية في الوطن العربي

### الثروة الحيوانية:

- تتنوع الثروة الحيوانية في الوطن العربي.

(1) **مصر:**

- تُعد مصر أولى الدول العربية في تربية الجاموس بنسبة 85% ؛ لوجود البيئة الزراعية الفيضية المناسبة لتربيتها.

(2) **السودان:**

- هي أولى الدول العربية في تربية الأبقار والأغنام والماعز والخيول.

(3) **الصومال:**

- هي أولى الدول العربية في تربية الإبل (الجمال).

(4) **المغرب:**

- تُعد المغرب أولى الدول العربية في تربية الدواجن.

### أهمية الثروة الحيوانية:

(1) توفير البروتين الحيواني (اللحوم) لسكان الوطن العربي.

(2) توفير المواد الخام اللازمة للصناعة مثل: (الجلود والألبان واللحوم).

(3) تُستخدم بعض الحيوانات في الريف في أعمال الزراعة والنقل.

- رغم تنوع الإنتاج الحيواني إلا أن إنتاج اللحوم الحمراء لا يكفي حاجة السكان؛

لذلك تهتم الدول العربية بتربية (الدجاج والبط والإوز والحمام)؛ لسد العجز في

اللحوم الحمراء.

### الثروة السمكية:

- تُسهم (تُشارك) في سد العجز من البروتين الحيواني.

- توجد المصايد السمكية في:

( البحار – البحيرات – الأنهار – المحيطات )

- **المغرب** أولى الدول العربية في إنتاج الأسماك من المصايد؛ لطول سواحلها على

البحر المتوسط والمحيط الأطلنطي.

- **مصر** الأولى عربياً في إنتاج الأسماك من المزارع السمكية؛ حيث تنتج 90% من

إنتاج المزارع السمكية.

## مشكلات الثروة الحيوانية في الوطن العربي:

- تؤثر التغيرات المناخية على الثروة الحيوانية.

- (1) قلة الأمطار والجفاف والتصحر يؤدي إلى موت أعداد كثيرة من الحيوانات.
- (2) فقر المراعي في الوطن العربي.
- (3) الرعي الجائر للحيوانات.
- (4) اتباع أساليب الرعي التقليدية (القديمة).
- (5) قلة الأعلاف.



## مشكلات الثروة السمكية في الوطن العربي:

- تؤثر التغيرات المناخية على الثروة الحيوانية.

- (1) ارتفاع درجة حرارة المسطحات المائية ونقص الأكسجين يؤدي إلى موت الكائنات البحرية.

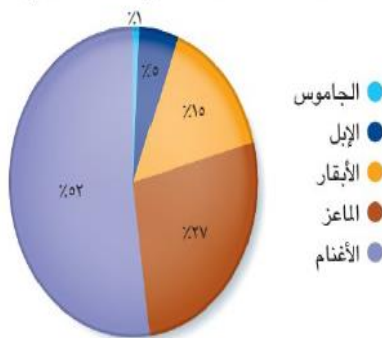


- (2) تلوث المياه.
- (3) استخدام وسائل بدائية (قديمة) في الصيد.
- (4) الصيد الجائر للأسماك (الصيد غير القانوني).

## جهود الدول العربية لتنمية الثروة الحيوانية:

- (1) تطوير المراعي الطبيعية.
- (2) الاعتماد على الأساليب الحديثة في تربية الحيوانات.
- (3) توفير الرعاية البيطرية والأعلاف.
- (4) زيادة الحيوانات ذات الإنتاجية المرتفعة من اللحوم والألبان.

نسب أعداد الحيوانات في الوطن العربي عام ٢٠٢٠ م



## جهود الدول العربية لتنمية الثروة السمكية:

- (1) توفير وسائل ومعدات الصيد الحديثة.
- (2) تدريب الصيادين.
- (3) تفعيل (تنفيذ) قوانين الصيد (لمنع الصيد الجائر).
- (4) التوسع في مشروعات الاستزراع السمكي.

### السؤال الأول: اكتب كلمة (صواب) أو كلمة (خطأ) أمام كل عبارة

- (1) تتنوع الثروة الحيوانية في الوطن العربي. (.....)
- (2) تحتل مصر المركز الأول في تربية الأبقار والأغنام. (.....)
- (3) تساهم الثروة الحيوانية في توفير مواد خام للصناعة. (.....)
- (4) تكفي اللحوم الحمراء حاجة السكان في الوطن العربي. (.....)
- (5) تؤثر التغيرات المناخية على الثروة الحيوانية. (.....)
- (6) ارتفاع درجة حرارة المسطحات المائية لا يؤثر على الأسماك. (.....)
- (7) المغرب أولى الدول العربية في إنتاج الأسماك من المصايد. (.....)

### السؤال الثاني: ضع خطأ تحت الإجابة الصحيحة

- (1) أولى الدول العربية في تربية الجاموس هي .....  
(أ) مصر (ب) السودان (ج) الصومال (د) المغرب
- (2) أولى الدول العربية في تربية الأبقار هي .....  
(أ) مصر (ب) السودان (ج) الصومال (د) المغرب
- (3) أولى الدول العربية في تربية الإبل هي .....  
(أ) مصر (ب) السودان (ج) الصومال (د) المغرب
- (4) أولى الدول العربية في تربية الدواجن هي .....  
(أ) مصر (ب) السودان (ج) الصومال (د) المغرب
- (5) من المواد الخام الحيوانية التي تدخل في الصناعة .....  
(أ) القطن (ب) الألبان (ج) الحديد (د) البترول

### السؤال الثالث: أكمل الجمل الآتية

- (1) الصومال أكبر الدول العربية في تربية .....
- (2) مصر أكبر الدول العربية في إنتاج الأسماك من .....
- (3) أكبر الدول العربية في تربية الأبقار هي .....
- (4) المغرب أكبر الدول العربية في إنتاج .....

### السؤال الرابع: اكتب ما تدل عليه العبارة

- (1) أولى الدول العربية في تربية الإبل. (.....)
- (2) أولى الدول العربية في تربية الجاموس. (.....)
- (3) أولى الدول العربية في إنتاج الأسماك من المصايد. (.....)



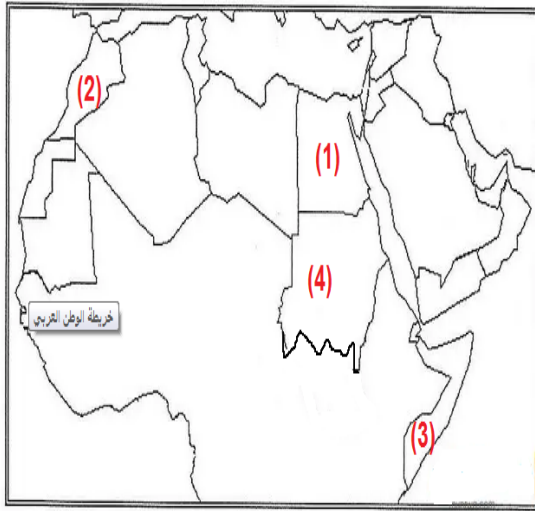
### السؤال الخامس: أجب

- (1) اذكر سببا واحدا: تُعد مصر أولى الدول العربية في تربية الجاموس.  
.....
- (2) ماذا تتوقع إذا: تم توفير وسائل ومعدات الصيد الحديثة للصيادين؟  
.....
- (3) اكتب دليلا على: اهتمام الدول العربية بتنمية الثروة الحيوانية.  
.....
- (4) اكتب نتيجة: ارتفاع درجة حرارة المسطحات المائية ونقص الأكسجين.  
.....
- (5) اكتب سبباً واحداً: المغرب أولى الدول العربية في إنتاج الأسماك من المصايد.  
.....

### السؤال السادس: صوب ما تحته خط

- (1) تحتل مصر المركز الأول في تربية الأبقار والأغنام. (.....)
- (2) تونس أولى الدول العربية في إنتاج الأسماك من المصايد. (.....)
- (3) قطر أكبر الدول العربية في تربية الإبل. (.....)

### السؤال السابع: انظر إلى الخريطة واختر الإجابة



- رقم (1) أولى الدول في تربية الجاموس.....  
( مصر - السودان - الصومال - المغرب )
- رقم (2) أولى الدول في تربية الدواجن.....  
( مصر - السودان - الصومال - المغرب )
- رقم (3) أولى في تربية الإبل.....  
( مصر - السودان - الصومال - المغرب )
- رقم (4) إلى أولى الدول العربية في تربية الأبقار.....  
( مصر - السودان - الصومال - المغرب )

## الدرس الثالث التعدين والصناعة في الوطن العربي

– يلعب كل من التعدين والصناعة دورًا مهمًا في اقتصاد الوطن العربي.  
التعدين في الوطن العربي:

(1) **الذهب** **التعدين**: استخراج المعادن من باطن الأرض.

– يُنتج الوطن العربي 3% من الإنتاج العالمي.

– **السودان** المرتبة الأولى في إنتاج الذهب عربيًا.

– **مصر** المرتبة الثانية في إنتاج الذهب عربيًا.

**أهمية الذهب**: (1) يُستخدم في صناعة الحلي (المشغولات الذهبية).

(2) تُستخدم ذرات الذهب في علاج بعض الأمراض.

(2) **الحديد**

– تحتل موريتانيا المرتبة الأولى في إنتاج الحديد عربيًا.

**أهمية الحديد**: (1) يُستخدم في الصناعات الثقيلة.

(2) يُستخدم في صناعة المنشآت والكباري.

(3) **الفوسفات**

– يصل الإنتاج العربي من الفوسفات ربع الإنتاج العالمي.

– تحتل المغرب المرتبة الأولى في إنتاج الفوسفات عربيًا.

**أهمية الفوسفات**: صناعة الأسمدة والمبيدات.

مصادر الطاقة في الوطن العربي:

– الوطن العربي غني بمصادر الطاقة.

(1) **البترو**

– يُنتج أكثر من ربع الإنتاج العالمي من البترول.

– المملكة العربية السعودية أولى الدول العربية إنتاجًا للبترول.

(2) **الغاز الطبيعي**

– يُنتج الوطن العربي 17% من الإنتاج العالمي للغاز الطبيعي.

– قطر الأولى عربيًا في إنتاج الغاز الطبيعي.

\* تتوسع الدول العربية في إنتاج الطاقة المتجددة النظيفة مثل:

– الطاقة الكهرومائية. – الطاقة الشمسية.

– طاقة الرياح. – الهيدروجين الأخضر.



## الصناعة في الوطن العربي:

- تُعد الصناعة من أهم الأنشطة الاقتصادية في الوطن العربي.

## مقومات الصناعة في الوطن العربي:

- (1) المواد الخام. (2) مصادر الطاقة. { مقومات طبيعية
- (3) توفر الأيدي العاملة الماهرة. (4) شبكات النقل والمواصلات. { مقومات بشرية
- (5) توفر رأس المال. (6) توفر السوق.

## أهمية الصناعة في الوطن العربي:

- (1) تُسهم بـ ثلث الدخل القومي.
- (2) توفير فرص عمل، حيث يعمل بها 22% من القوى العاملة.

## أنواع الصناعة:

(أ) صناعة استخراجية: استخراج المعادن ومصادر الطاقة

(ب) صناعات تحويلية: تحويل المواد الخام إلى منتجات مثل:

- (1) صناعة الحديد والصلب: تحتل مصر المركز الأول عربيًا.
- (2) صناعة الأسمنت: تحتل السعودية المركز الأول عربيًا.
- (3) صناعة البتروكيماويات، وصناعة المنسوجات وتكرير البترول.



## مشكلات الصناعة والتعدين في الوطن العربي:

- (1) استيراد المعدات والآلات من الخارج.
- (2) بُعد مناطق الإنتاج عن مناطق الاستهلاك.
- (3) الاعتماد على الصناعات الاستخراجية.
- (4) نفاذ بعض مصادر الطاقة كالبترول في المستقبل.

## جهود الدول العربية لتنمية الصناعة والتعدين:

- (1) الاهتمام بالتعليم والبحث العلمي في مجال التعدين والصناعة.
- (2) تحديث البنية التحتية (مثل الطرق والكهرباء...).
- (3) الاعتماد على مصادر الطاقة النظيفة.
- (4) استخدام التكنولوجيا الحديثة في الصناعة.
- (5) إنشاء مدن ومناطق صناعية ذكية.



- تعمل بعض الدول مثل: مصر والسعودية وقطر والإمارات على التوسع في **الصناعة الخضراء** التي تعتمد على مصادر الطاقة النظيفة وتقليل المخلفات، وإعادة التدوير؛ للتقليل من التأثير السلبي للصناعة على الصحة والبيئة.

### السؤال الأول: اكتب كلمة (صواب) أو كلمة (خطأ) أمام كل عبارة

- (1) تحتل مصر المرتبة الثانية في إنتاج الذهب عربياً. (.....)
- (2) تُستخدم ذرات الحديد في علاج بعض الأمراض. (.....)
- (3) تحتل مصر المرتبة الأولى في إنتاج الفوسفات عربياً. (.....)
- (4) قطر الأولى عربياً في إنتاج الغاز الطبيعي. (.....)
- (5) تعمل مصر على التوسع في الصناعة الخضراء. (.....)
- (6) الهيدروجين الأخضر من مصادر الطاقة النظيفة. (.....)
- (7) الصناعة من أهم الأنشطة الاقتصادية في الوطن العربي. (.....)

### السؤال الثاني: ضع خطأ تحت الإجابة الصحيحة

- (1) تحتل مصر المركز ..... في صناعة الحديد والصلب.  
(أ) الأول (ب) الثاني (ج) الثالث (د) الرابع
- (2) أولى الدول العربية في إنتاج الأسمنت هي .....  
(أ) مصر (ب) المغرب (ج) قطر (د) السعودية
- (3) يتم صناعة المبيدات والأسمدة من .....  
(أ) الحديد (ب) الذهب (ج) الفوسفات (د) الغاز الطبيعي
- (4) تحتل ..... المركز الأول عربياً في إنتاج الغاز الطبيعي.  
(أ) مصر (ب) المغرب (ج) قطر (د) موريتانيا
- (5) تحتل مصر المركز الأول في صناعة .....  
(أ) الأسمنت (ب) تكرير البترول (ج) الغاز الطبيعي (د) الحديد والصلب

### السؤال الثالث: أكمل الجمل الآتية

- (1) أولى الدول العربية في صناعة الحديد والصلب .....
- (2) أولى الدول العربية في إنتاج الأسمنت .....
- (3) أولى الدول العربية في إنتاج الغاز الطبيعي .....
- (4) أولى الدول العربية في إنتاج الحديد .....

### السؤال الرابع: اكتب ما تدل عليه العبارة

- (1) استخراج المعادن من باطن الأرض. (.....)
- (2) تحويل المواد الخام إلى منتجات. (.....)
- (3) صناعة تعتمد على مصادر الطاقة النظيفة وتقليل المخلفات. (.....)

### السؤال الخامس: أجب

(1) اذكر سببا واحدا: تقوم بعض الدول بالتوسع في الصناعة الخضراء.

(2) ماذا تتوقع إذا: زاد الاعتماد على الصناعة الخضراء في الوطن العربي؟

(3) اكتب دليلا على: أهمية الصناعة في الوطن العربي.

(4) اكتب مقترحا ل: تنمية الصناعة والتعدين في الوطن العربي.

(5) اكتب دليلا على: جهود الدول العربية لتنمية الصناعة والتعدين.

### السؤال السادس: صوب ما تحته خط

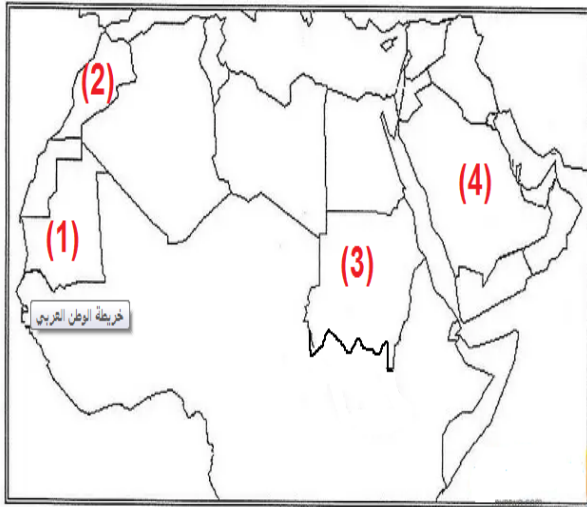
(1) صناعة الحديد والصلب من الصناعات الاستخراجية. (.....)

(2) تحتل مصر المرتبة الأولى في إنتاج الفوسفات عربيا. (.....)

### السؤال السابع: ما المقصود ب:

(1) الصناعة الخضراء:

### السؤال السابع: انظر إلى الخريطة واختر الإجابة



رقم (1) الأولى عربيا في إنتاج الحديد

( المغرب - السودان - السودان - موريتانيا )

رقم (2) الأولى عربيا في إنتاج الفوسفات

( المغرب - السودان - السودان - موريتانيا )

رقم (3) الأولى عربيا في إنتاج الذهب

( المغرب - السودان - السودان - موريتانيا )

رقم (4) أولى الدول العربية في إنتاج البترول

( المغرب - السودان - السودان - موريتانيا )

## الدرس الرابع السياحة في الوطن العربي

- يحتفل الوطن العربي بيوم السياحة العربي في 25 فبراير من كل عام.

### مقومات السياحة في الوطن العربي:

#### مقومات طبيعية

(1) الموقع الجغرافي الفريد.

(2) المناخ المعتدل في الشتاء.

#### مقومات بشرية

(1) تنوع المناطق السياحية والتراثية.

(2) توفر شبكة مواصلات (برية وجوية وبحرية) جيدة.

(3) تطور الفنادق والقرى السياحية.

### أنواع السياحة في الوطن العربي:

#### (1) السياحة الثقافية:

- تشمل زيارة المواقع الأثرية والتراثية مثل:

- الأقصر في مصر. - بابل في العراق.

- تدمر في سوريا. - القيرون في تونس.

#### (2) السياحة الترفيهية:

- زيارة الشواطئ في مصر والمغرب ولبنان، والرحلات النيلية في أسوان في مصر.

#### (3) السياحة الدينية:

\* زيارة الأماكن المقدسة مثل:

- المسجد الحرام في السعودية. - المسجد الأقصى وكنيسة القيامة في فلسطين.

- دير سانت كاترين ومسار العائلة المقدسة في مصر.

#### (4) السياحة العلاجية:

\* زيارة الأماكن بهدف الاستشفاء والعلاج مثل:

- العيون الكبريتية في سيوة وعيون موسى في مصر.

- عين ماعت في الأردن.

#### (5) سياحة المؤتمرات والمعارض:

\* حضور المؤتمرات والمعارض الدولية كما في مصر وقطر والسعودية والإمارات.



## (6) السياحة البيئية:

- تتضمن سياحة السفاري، وزيارة المحميات الطبيعية، والمناطق الصحراوية.

## (7) السياحة الرياضية:

\* حضور المسابقات الرياضية مثل:

- كأس الأمم الإفريقية لكرة اليد في مصر في مصر 2022 م.

- كأس العالم في كرة القدم في قطر 2022 م.

## (8) سياحة التسوق:

- تنتشر أضخم المراكز التجارية في الإمارات وقطر والبحرين.



## أهمية السياحة في الوطن العربي:

(1) تساعد على التبادل الثقافي بين الدول.

(2) توفير العملات الأجنبية.

(3) توفير فرص عمل في الفنادق والمطارات والمطاعم والمتاجر.

## جهود الدول العربية لتحقيق السياحة المستدامة

(1) تطوير البنية التحتية لقطاع السياحة (الطرق - الكهرباء - المياه...)

(2) رفع جودة الخدمات السياحية للمستوى العالمي.

(3) تأهيل العاملين في السياحة.

(4) تكثيف الحملات الإعلانية للترويج عن السياحة.



- الإسكندرية عاصمة السياحة العربية عام 2010 م.

- الدوحة في قطر عام السياحة العربية عام 2023 م.

## السياحة المستدامة:

- هدفها تقليل النشاط السلبي للسياحة على البيئة؛ بالتقليل من النفايات

والمخلفات، واستخدام مصادر الطاقة المتجددة، والحفاظ على التراث والثقافة

المحلية.

## السؤال الأول: اكتب كلمة (صواب) أو كلمة (خطأ) أمام كل عبارة

- (1) تتوفر في الوطن العربي مناطق سياحية وتراثية تجذب السياح. (.....)
- (2) زيارة الأقصر في مصر من أنواع السياحة البيئية. (.....)
- (3) زيارة المسجد الحرام في السعودية سياحة دينية. (.....)
- (4) توجد عين ماعت في دولة السعودية. (.....)
- (5) تطوير البنية التحتية يساعد على جذب السياح. (.....)
- (6) توفر شبكة مواصلات برية وجوية وبحرية جيدة. (.....)
- (7) زيارة شواطئ دولة لبنان سياحة ترفيهية. (.....)

## السؤال الثاني: ضع خطاً تحت الإجابة الصحيحة

- (1) زيارة المسجد الأقصى من أنواع السياحة  
(أ) البيئية (ب) الرياضية (ج) الثقافية (د) الدينية
- (2) من الأماكن الدينية في فلسطين  
(أ) المسجد الأقصى (ب) المسجد الحرام (ج) الأزهر الشريف (د) سانت كاترين
- (3) زيارة عيون موسى من أنواع السياحة  
(أ) البيئية (ب) الرياضية (ج) العلاجية (د) الدينية
- (4) مشاهدة البطولات الرياضية من أنواع السياحة  
(أ) البيئية (ب) الرياضية (ج) الثقافية (د) الدينية
- (5) زيارة تدمر في سوريا من أنواع السياحة  
(أ) البيئية (ب) الرياضية (ج) الثقافية (د) الدينية

## السؤال الثالث: أكمل الجمل الآتية

- (1) دير سانت كاترين ومسار العائلة المقدسة يوجدان في .....
- (2) توجد مدينة تدمر في دولة .....
- (3) زيارة عيون موسى في مصر من أحد أشكال السياحة .....
- (4) حصلت ..... على عاصمة السياحة العربية عام 2010 م.

## السؤال الرابع: اكتب ما تدل عليه العبارة

- (1) سياحة هدفها تقليل النشاط السلبي للسياحة على البيئة. (.....)
- (2) عاصمة السياحة العربية عام 2010 م . (.....)
- (3) سياحة يقوم فيها السياح بزيارة الأماكن المقدسة. (.....)



### السؤال الخامس: أجب

(1) اذكر سببا واحدا: السياحة لها أهمية كبيرة في الوطن العربي.

(2) ماذا تتوقع إذا: زاد عدد السياح إلى الدول العربية.

(3) اكتب دليلا على: تنوع السياحة في الوطن العربي.

(4) اكتب اثنين من جهود الدول العربية؛ لتحقيق السياحة المستدامة.

(5) اكتب سبباً واحداً: يزور السياح العيون الكبريتية في سيوة

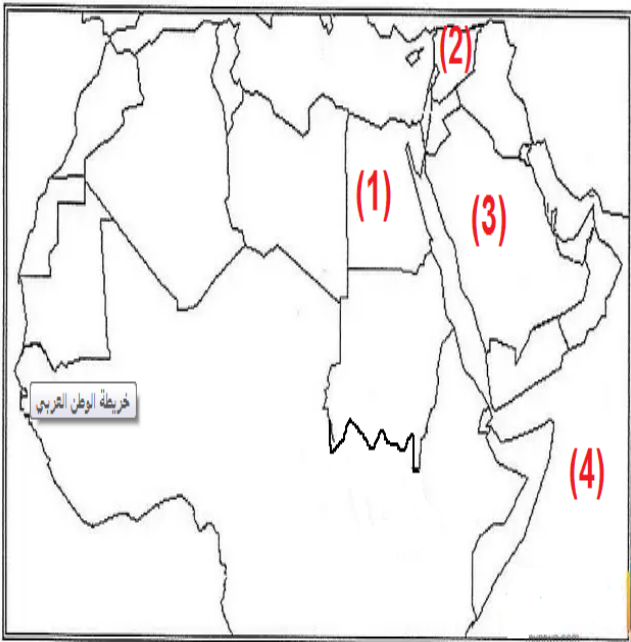
### السؤال السادس: صوب ما تحته خط

(1) توجد عين ماعت في دولة السعودية. (.....)

(2) زيارة الأقصر في مصر من أنواع السياحة البيئية. (.....)

(3) الخرطوم عاصمة السياحة العربية عام 2010 م. (.....)

### السؤال السابع: انظر إلى الخريطة واختر



- يشير رقم (1) إلى دولة

التي يوجد بها عيون موسى الكبريتية.

- يشير رقم (2) إلى دولة

التي يوجد بها آثار تدمر.

- يشير رقم (3) إلى دولة

التي يوجد بها المسجد الحرام.

- يشير رقم (4) إلى المحيط

الذي يوجد في الحدود الجنوبية للوطن العربي.

## الدرس الخامس التجارة في الوطن العربي

### التجارة في عصر الدولة الإسلامية

- كان الرسول محمد ﷺ يعمل بالتجارة.
- ساهمت التجارة في بناء الدولة الإسلامية ونشر الإسلام.
- اتسم (اتصف) التجار المسلمون بالأخلاق الحسنة مما ساعد على نشر الإسلام.
- انتشرت المراكز التجارية في البلاد الإسلامية مثل: جدة وصنعاء والبصرة الإسكندرية.

### أهمية التجارة

- (1) تقوية العلاقات بين الدول.
- (2) تلبية احتياجات السكان من السلع والخدمات.
- (3) توفير العملات الأجنبية.
- (4) ضبط الميزان التجاري للدولة.
- (5) توفير فرص عمل للسكان.

### التجارة لها نوعان

#### (1) تجارة بينية عربية:

- الصادرات والواردات من السلع والخدمات بين الدول العربية.
- وتتسم التجارة البينية بين الدول العربية بالضعف بسبب:
  - (أ) التشابه بين السلع التي تنتجها الدول العربية.
  - (ب) عدم تنوع الصادرات العربية.
  - (ج) ضعف التكنولوجيا.
  - (د) وجود حواجز جمركية بين الدول العربية.
  - (هـ) تركيز التبادل التجاري بين دول الجوار فقط.

#### (2) تجارة دولية أو خارجية:

- الصادرات والواردات بين الدول العربية وباقي دول العالم.

### أهم صادرات الوطن العربي

- (1) الوقود والمعادن: السعودية والعراق والإمارات أولى الدول المصدرة للبترول.
- (2) المنتجات الصناعية: تأتي في المرتبة الثانية.
- (3) المنتجات الزراعية: تأتي في المرتبة الثالثة.

## أهم واردات الوطن العربي

- (1) المنتجات الصناعية.
- (2) السلع الغذائية.

## جهود الدول العربية للنهوض بالتجارة البينية

- (1) تنويع الصادرات وتمييزها خاصة غير النفطية.
- (2) تقليص (تقليل) الجمارك بين الدول العربية.
- (3) إقامة المعارض الدائمة والسنوية.
- (4) الدعاية للمنتجات العربية.
- (5) إنشاء التجمعات العربية مثل:
  - اتحاد دول المغرب العربي: (ليبيا - تونس - الجزائر - المغرب - موريتانيا)
  - دول اتفاقية أغادير: (الأردن - تونس - مصر - المغرب)
  - مجلس التعاون الخليجي:
  - (الإمارات - البحرين - السعودية - عُمان - قطر - الكويت)
  - منظمة التجارة العربية الحرة:
  - كل الدول العربية ماعدا (جيبوتي والصومال وموريتانيا وجزر القمر)

## التجارة الإلكترونية

- تبادل السلع والخدمات عبر باستخدام شبكة المعلومات الدولية.
- ظهرت نتيجة للتطور التكنولوجي.

## أهمية التجارة الإلكترونية

- (1) خفض أسعار السلع والخدمات.
- (2) إمكانية الشراء على نطاق أوسع للأفراد والشركات.

## جهود الدول العربية لدعم التجارة الإلكترونية

- (1) إنشاء الاتحاد العربي للتجارة الإلكترونية.
- (2) تشجيع الشركات العربية على التجارة الإلكترونية.
- (3) اتخاذ التدابير الأمنية لمنع اختراق الحسابات المالية للشركات والأفراد.

## هيئات مؤثرة في المجتمع العربي



### المنظمة العربية للتنمية الزراعية

- تأسست عام 1972 م.
- مقرها (مكانها) الخرطوم في السودان.
- أهداف المنظمة:

- (1) تسهيل تبادل المنتجات الزراعية والسلمية بين الدول العربية.
- (2) دعم إقامة المشاريع والصناعات الزراعية والسلمية.
- (3) العمل على زيادة الإنتاج الزراعي والسلمي؛ لتحقيق الاكتفاء الذاتي.
- (4) تنمية الموارد الطبيعية والبشرية في مجالات الزراعة والأغذية والثروة الحيوانية.
- (5) النهوض بالمستوى المعيشي للعاملين في مجال الزراعة والصيد السلمي.



### المنظمة العربية للسياحة

- تأسست عام 2004 م.
- مقرها جدة - السعودية.

### - أهداف المنظمة:

- (1) تنمية صناعة السياحة في الدول العربية.
- (2) جذب المزيد من حركة السياحة العالمية.
- (3) توفير الكوادر الفنية المُهلهة في مجال السياحة.
- (4) تشجيع البحث العلمي في مجال السياحة.
- (5) تبادل المعلومات والخبرات بين الدول العربية في مجال السياحة.

## السؤال الأول: اكتب كلمة (صواب) أو كلمة (خطأ) أمام كل عبارة

- (1) ساهمت التجارة في بناء الدولة الإسلامية ونشر الإسلام. (.....)
- (2) لا توجد حواجز جمركية بين الدول العربية. (.....)
- (3) السعودية من أولى الدول العربية المصدرة للبترول. (.....)
- (4) اتصف التجار المسلمون بالأخلاق الحسنة. (.....)
- (5) السلع الغذائية من صادرات الدول العربية. (.....)
- (6) تساعد التجارة في توفير فرص عمل وزيادة العملات الأجنبية. (.....)
- (7) التجارة الإلكترونية تتم باستخدام شبكة المعلومات الدولية. (.....)

## السؤال الثاني: ضع خطاً تحت الإجابة الصحيحة

- (1) صادرات الدول العربية من البترول تأتي في المركز .....  
(أ) الأول (ب) الثاني (ج) الثالث (د) الرابع
- (2) تتسم التجارة البنية بين الدول العربية .....  
(أ) الوفرة (ب) الكثرة (ج) الضعف (د) القوة
- (3) التجارة الإلكترونية تؤدي إلى ..... أسعار السلع.  
(أ) رفع (ب) زيادة (ج) خفض (د) ارتفاع

## السؤال الثالث: أكمل الجمل الآتية

- (1) كان الرسول محمد ﷺ يعمل ب.....
- (2) توفر التجارة العملات ..... للدول العربية.
- (3) وجود حواجز ..... يؤدي إلى ضعف التارة بين الدول العربية.
- (4) التجارة الإلكترونية تؤدي إلى ..... أسعار السلع.

## السؤال الرابع: اكتب ما تدل عليه العبارة

- (1) الصادرات والواردات من السلع والخدمات بين الدول العربية. (.....)
- (2) الصادرات والواردات بين الدول العربية وباقي دول العالم. (.....)
- (3) تبادل السلع والخدمات باستخدام شبكة المعلومات الدولية. (.....)

## السؤال الخامس: أجب

(1) اذكر سببا واحدا: تتسم التجارة البنية بين الدول العربية بالضعف.

.....

(2) ما العلاقة بين الأخلاق الحسنة للتجار المسلمين وانتشار الإسلام؟

.....

(3) اكتب دليلا على: اهتمام الدول العربية بالتجارة الإلكترونية.

.....

(4) اكتب نتيجة واحدة تترتب على: وجود حواجز جمركية بين الدول العربية.

.....

(5) اكتب سببًا واحدًا: للتجارة أهمية كبيرة.

.....

## السؤال السادس: صوب ما تحته خط

(1) السلع الغذائية من صادرات الدول العربية. (.....)

(2) التجارة الإلكترونية تؤدي إلى رفع أسعار السلع. (.....)

(3) لبنان من أولى الدول العربية المصدرة للبتروال. (.....)

## السؤال السابع: انظر إلى الخريطة

رقم (1) إلى جبال ..... في المغرب.

رقم (2) إلى البحر .....

رقم (3) إلى هضبة .....

رقم (4) إلى واحة ..... في مصر.

رقم (5) إلى أكبر دولة عربية .....

